


Измерване на дължина в сантиметри

Измери с помощта на линията и запиши дължината на всеки предмет:


1)




2)




3)




4)



5)



Каква е дължината на бонбона?



Каква е дължината на пчелата?



Каква е дължината на това устройство?

