
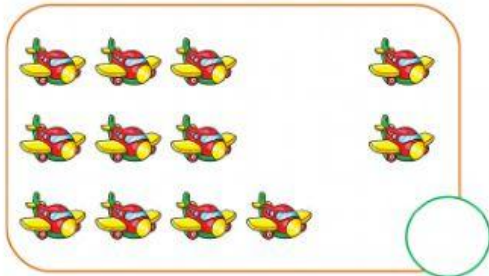




Họ và tên:.....

Lớp: 1 .....

### BÀI TẬP CUỐI TUẦN 19

#### Bài 1. Số?



#### Bài 2. Viết số thích hợp vào chỗ chấm:



#### Bài 3. Số?

