



EVALUACIÓN PRIMER QUIMESTRE TERCEROS AÑOS

MATEMÁTICA

1. Une la cantidad con la escritura correcta de cada número.

306

Seiscientos cuarenta y ocho.

648

Ciento doce.

112

Setecientos cincuenta y nueve

759

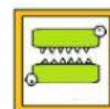
Trecientos seis

2. Completa con los signos mayor que $>$, menor que $<$ o igual que $=$, arrastrando el signo.

C	D	U		C	D	U
4	4	0		6	1	7



C	D	U		C	D	U
9	3	5		2	0	9

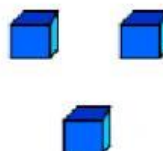
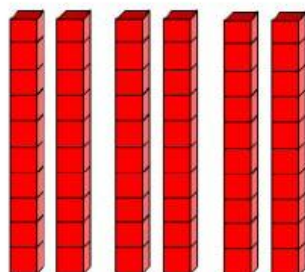
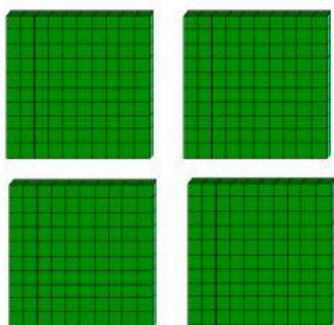


C	D	U		C	D	U
3	5	1		3	5	1





3. Elija la cantidad representada en base 10 y selecciona el cuadrado de la respuesta correcta.



a) 436

☐

b) 643

☐

c) 463

☐

4. Resuelva el siguiente problema y señale la respuesta correcta

Galo compra un par de zapatos en 78 dólares y una camisa en 45 dólares. Si tiene si tiene 150 dólares.

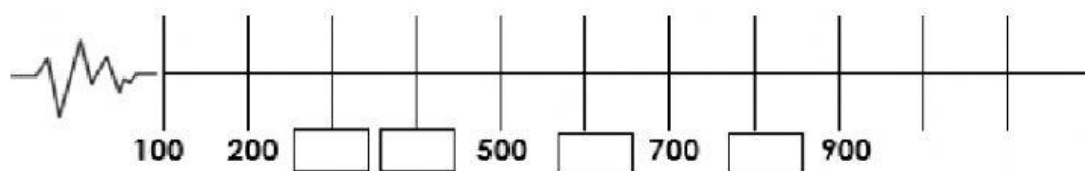
¿Cuánto dinero le sobra?

a) \$35 ☐

b) \$18 ☐

c) \$27 ☐

5. ¿Qué números completan la serie? Escribe la respuesta correcta.





6. Resuelva la siguiente sustracción o resta y selecciona la respuesta correcta.

- a) 760 ☐
- b) 452 ☐
- c) 564 ☐

C	D	U
<input type="text"/>	<input type="text"/>	<input type="text"/>
6	2	0
- 1	6	8
<input type="text"/>	<input type="text"/>	<input type="text"/>

7. Resuelva la siguiente suma o adición y selecciona la respuesta correcta.

- a) 107 ☐
- b) 326 ☐
- c) 661 ☐

C	D	U
<input type="text"/>	<input type="text"/>	<input type="text"/>
3	7	6
+ 2	8	5
<input type="text"/>	<input type="text"/>	<input type="text"/>



8. ¿Es par o impar? Escribe la cantidad y una según corresponde.

	3	<input type="checkbox"/>
		<input type="checkbox"/>
		<input type="checkbox"/>
		<input type="checkbox"/>
		<input type="checkbox"/>

par

impar

9. Arrastra el nombre con el tipo de línea que corresponde.













Paralelas	Vertical	Intersecantes	Horizontal



10. Completar la siguiente tabla de frecuencias simples.

A los niños y niñas del tercer año les gustan los siguientes sabores de helado. ¿Qué helado más les gusta?

Datos

Tabla

Helados	Conteo	Frecuencia
fresa		
chicle		
chocolate		
Total.		

R: El sabor de helado que más les gusta es el de _____.