






ใบกิจกรรมที่ 1
เรื่อง องค์ประกอบของระบบสุริยะ

1. จงอธิบายความหมายของ "ระบบสุริยะ"

2. จงเรียงลำดับดาวเคราะห์ในระบบสุริยะให้ถูกต้อง

 ดาวพฤหัสบดี	 ดาวเสาร์	 ดาวเนปจูน	 ดาวอังคาร	 ดาวพุธ	 ดาวยูเรนัส	 ดาวศุกร์	 โลก
--	---	--	--	---	--	---	--



1	2	3	4	5	6	7	8
---	---	---	---	---	---	---	---