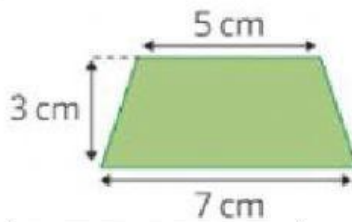
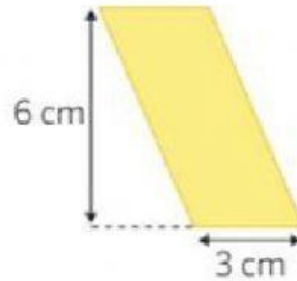


Área de triángulos y paralelogramos

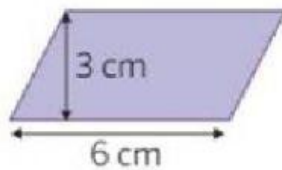
1 Calcula el área de estas figuras.



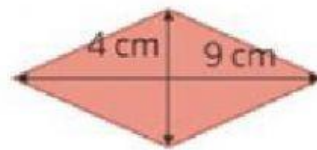
cm²



cm²


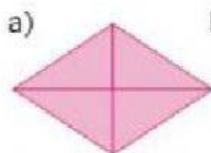
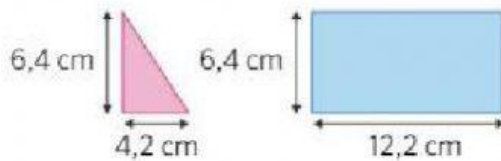


cm²



cm²

2 Observa cómo combinar un triángulo y un rectángulo para formar distintas figuras.




• Halla el área de las figuras a) y b).

a) cm²

b) cm²

3 Remedios tiene esta finca con una superficie de 90 m².



a) ¿Cuánto mide el ancho de la finca?

a) Mide m.

b) ¿Cuántos metros mide su perímetro?

b) Mide m.