




ASIGNATURA: CIENCIAS NATURALES

EVALUACIÓN BLOQUE 3

1. Completa el organizador con las características de un ecosistema.



2. Escribe cuales son los seres bióticos y abióticos dentro de los cuadros.



bióticos	abióticos

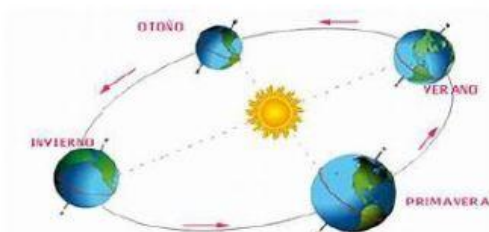
3. Relaciona cada ecosistema con sus características.

Ecosistema acuático	Formado en su mayor porcentaje por tierra.
Ecosistema terrestre	Formado por objetos creados por el hombre.
Ecosistema mixto	Formado en su mayor porcentaje por agua.
Ecosistema artificial	Formado en un porcentaje igualitario de agua y tierra.

4. Escribe V o F a los siguientes planteamientos.

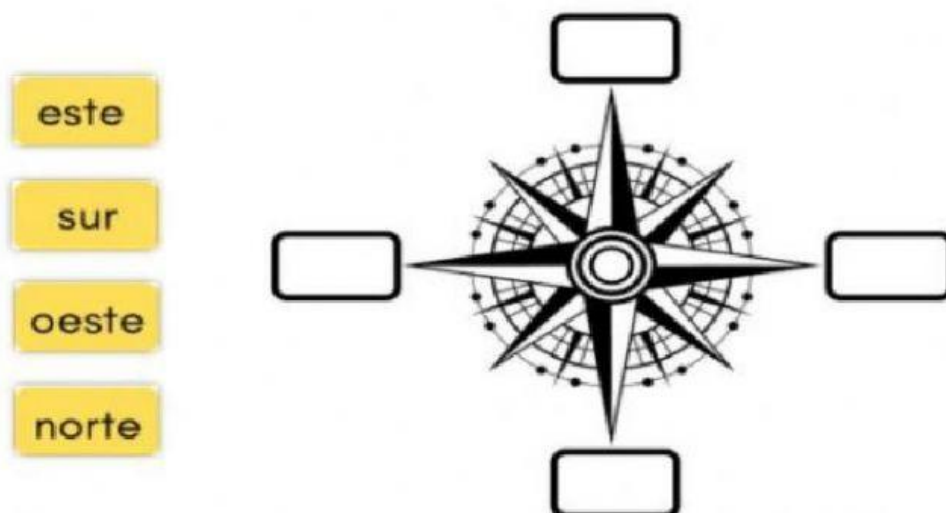
En el movimiento de rotación la tierra gira alrededor del sol.	
El movimiento de traslación tiene una duración de 365 días.	
El movimiento de rotación da paso a las cuatro estaciones del año.	
En el movimiento de traslación la tierra gira alrededor del sol.	

5. Relaciona cada movimiento con su respectivo nombre.





6. Escribe los puntos cardinales en su respectivo lugar.



7. Escribe cada regla en su lugar.

RECICLAR	REDUCIR	REUTILIZAR