



UNIDAD EDUCATIVA  
"LA PROVIDENCIA"

INSTRUMENTO DE EVALUACIÓN SUMATIVA

Nivel: Preparatoria	Área / Asignatura: Relaciones Lógica matemáticas		Año Lectivo:
Curso: Primero	Paralelo: "B"	Quimestre: PRIMER QUIMESTRE	2021-2022
Docente: Lic. Diana Lema			
ESTUDIANTE:		Fecha:	
<b>INSTRUCCIONES GENERALES:</b> <ul style="list-style-type: none"><li>- Antes de contestar, escuche atentamente las indicaciones.</li><li>- Solo deberán responder la evaluación una sola vez ya que se tomará en cuenta solo la primera entrega.</li><li>- Si tiene alguna inquietud pregunte a la maestra.</li><li>- Éxitos.</li></ul>			
Prueba de fin Parcial <input type="checkbox"/>	Examen quimestral <input checked="" type="checkbox"/>	Supletorio <input type="checkbox"/>	Remedial <input type="checkbox"/>

✚ M.1.4.1. Reconocer los colores primarios: rojo, amarillo y azul; los colores blanco y negro y los colores secundarios, en objetos del entorno.

1.- Una con líneas las frutas y colores



E-mail: providencia.ambato@gmail.com & academico.provi.amb@gmail.com  
Telf: 2824-212






M.1.4.3. Reconocer la derecha e izquierda en los demás

2.- Seleccione las imágenes que se dirijan a la derecha.



3.- Seleccione las imágenes que se dirijan ala izquierda.





- ✚ M.1.4.4. Distinguir la ubicación de objetos del entorno según las nociones arriba/abajo, delante/atrás y encima/debajo.

4.- Seleccione a la persona que está encima de la mesa.



5.- Seleccione la imagen que está detrás de la casa.



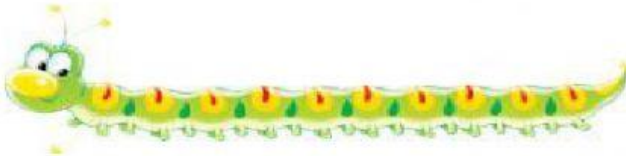


- ✦ M.1.4.6. Agrupar colecciones de objetos del entorno según sus características físicas: color, tamaño (grande/pequeño), longitud (alto/bajo y largo/corto).

6.- Seleccione las personas más altas.



7.- Observe y seleccione el gusano largo .



- ✦ M.1.4.9. Describir y reproducir patrones con cuerpos geométricos

8.- Según el patrón geométrico arrastre la figura donde corresponde.








.....





M.1.4.14. Identificar cantidades y asociarlas con los numerales 1 al 10 y el 0.


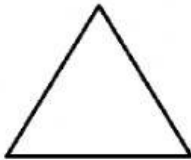

9.-Observe y cuente los conjuntos y una con líneas según el numeral que corresponde .





M.1.4.19. Reconocer cuerpos geométricos en objetos del entorno.

10.- Observe las figuras geométricas y una con líneas según corresponda.



ELABORADO Y REVISADO POR:

Lic. Diana Lema

DOCENTE

Lic. Paola Inca

COORDINADORA DE  
AREA

CERTIFICADO Y APROBADO POR:

Lic. Diana Lema  
TUTOR  
PTE. JUNTA DE CURSO

Msc. Silvia Freire  
RECTORA

ENLACE: