

Tên: _____


Lớp: _____

PHIẾU ÔN TOÁN LỚP 1 – TUẦN 18




1

Đố em đếm đúng.



2

Em hãy điền tiếp để hoàn thành các dãy số sau:



3

Em sẽ mở được chìa khoá nếu sắp xếp đúng số trên chìa khoá theo thứ tự:



Từ bé đến lớn:



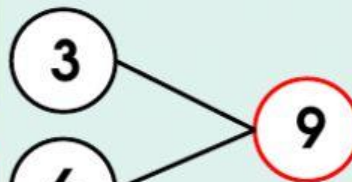
Từ lớn đến bé:



4

Em điền số, hoàn thành sơ đồ tách gộp và viết phép tính thích hợp.

Có 3 con cá rô
và ... con cá lóc.
Có tất cả ... con cá.



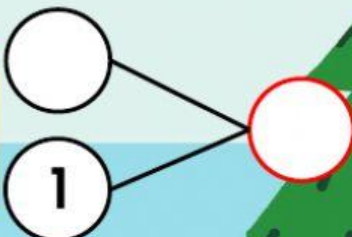
$$3 + 6 = \square$$

Có tất cả ... con cá,
trong đó có ... con cá rô,
còn lại ... con cá lóc.



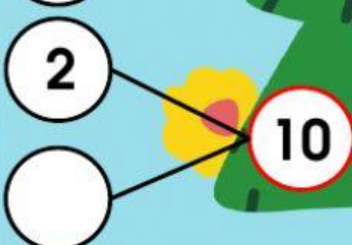
$$9 - \square = \square$$

Có 4 con heo đang ăn,
thêm ... con heo chạy tới.
Có tất cả ... con heo.



$$4 + \square = \square$$

Có 10 con chim bồ câu,
... con bay đi,
Còn lại ... con.



$$\square - \square = \square$$