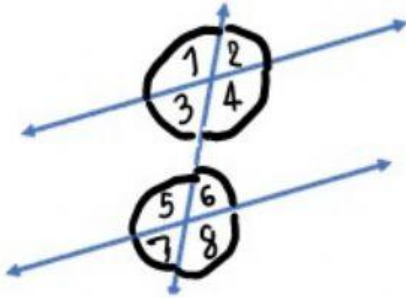


ใบงาน วิชาคณิตศาสตร์ (ชั้นป. 5)

เรื่อง มุมแย้ง มุมภายในและมุมภายนอก ที่อยู่บนข้างเดียวกันของเส้นตัดขวาง

คำชี้แจง ให้นักเรียนตอบคำถามให้ถูกต้อง

1.



1.1 จากรูป มุมคูใดเป็นมุมแย้งภายใน

.....

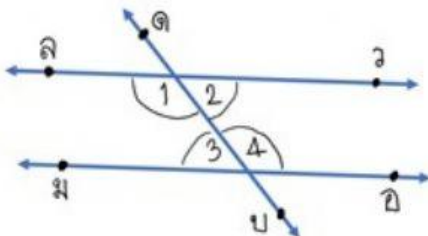
.....

1.2 มุมใดเป็นมุมภายในที่อยู่
บนข้างเดียวกันของเส้นตัด

.....

.....

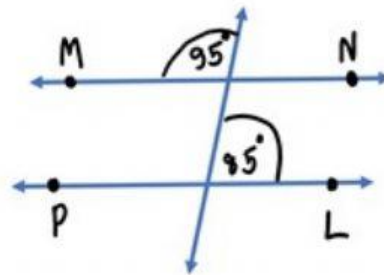
3.เมื่อกำหนดให้ $\vec{a} // \vec{b}$ และมี \vec{c} เป็นเส้นตัด มุมแย้งคูใดมีขนาดเท่ากัน



.....

.....

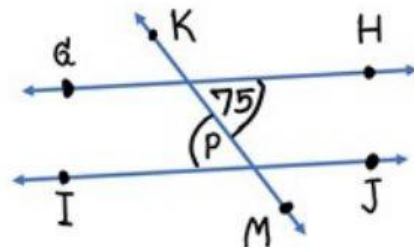
2.รูปภาพต่อไปนี้ขนานกันหรือไม่



.....

.....

4. เมื่อกำหนดให้ $\vec{GH} // \vec{IJ}$ และมี \vec{KM} เป็นเส้นตัด จงหาขนาดของมุม P



.....

.....

ชื่อนามสกุล.....ชั้น.....เลขที่.....