



Colegio Buonarroti

Educación Básica - Bachillerato Unificado

AÑO LECTIVO 2021-2022

EVALUACIÓN QUIMESTRAL MATEMÁTICAS



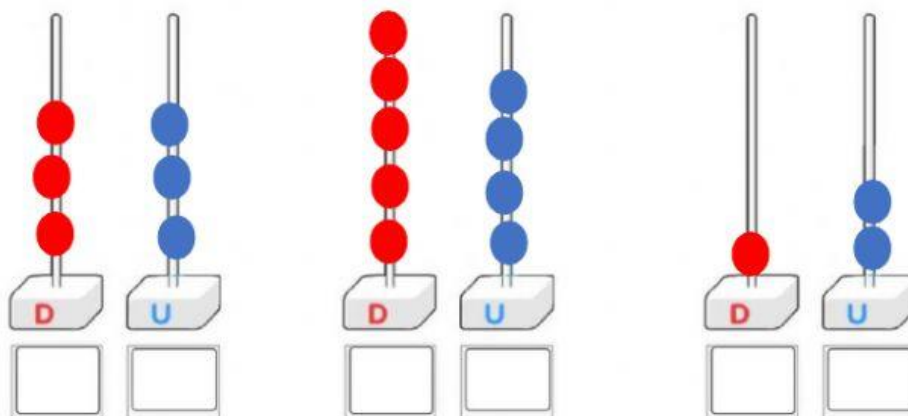
NOMBRE: _____ GRADO: TERCERO E.G.B

FECHA: _____ DOCENTE: Wendy Romero

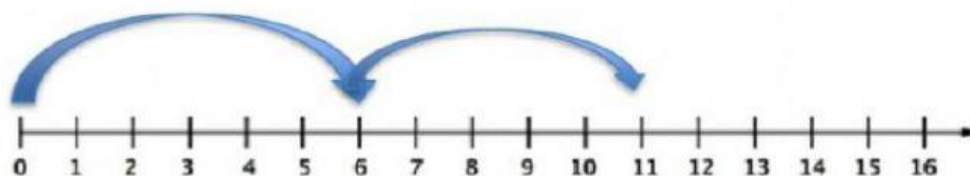
"Un libro, un lápiz y un profesor pueden cambiar el mundo". -Malala Yousafzai -

INDICACIONES GENERALES: 1. No debes conversar con tus compañeros al momento de realizar la evaluación.

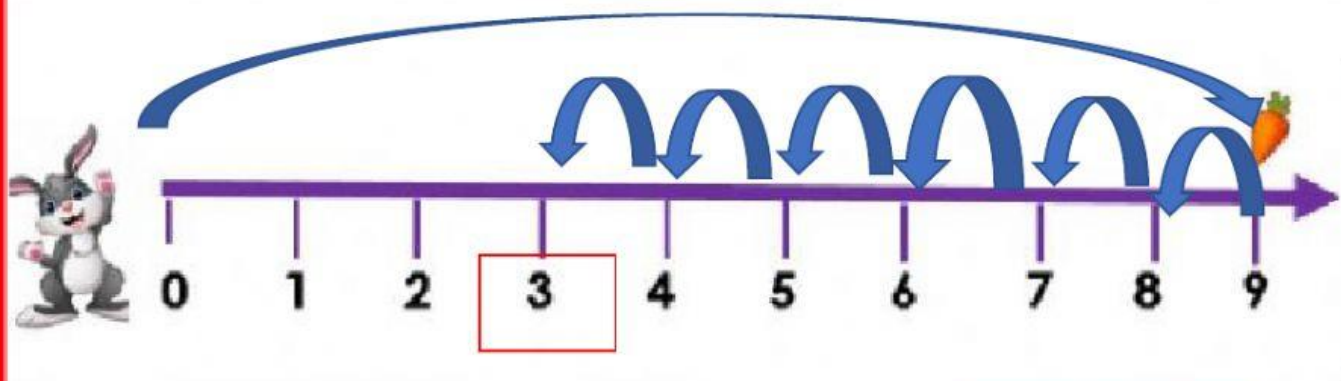
1. Escribe en el recuadro las cantidades representadas en el ábaco



2. Realiza las siguientes operaciones en la semirrecta numérica



$$\boxed{} + \boxed{} = \boxed{}$$



$$\boxed{} + \boxed{} = \boxed{}$$

3. Une con líneas los números ordinales

1º

5º

8º

3º

2º

Primero

Octavo

Tercero

Quinto

Segundo

4. Selecciona correctamente la medida que utilizarías para medir los siguientes objetos



Km
cm
m



cm
Km
m


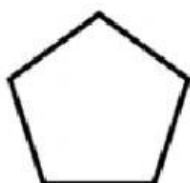


m
cm
km

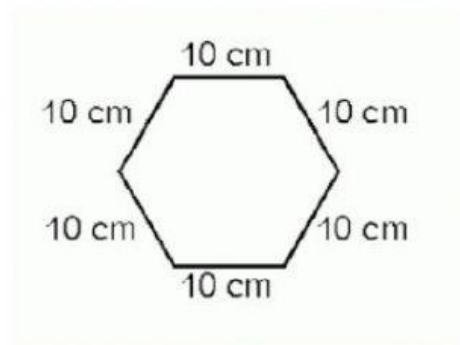
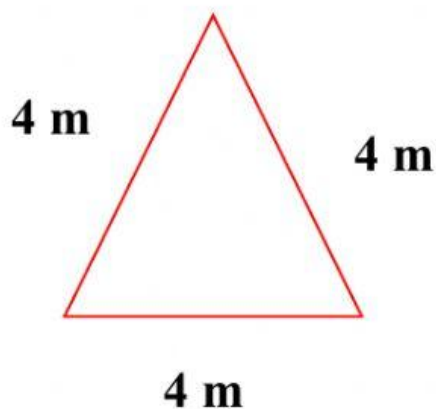
5. Escribe el nombre de las siguientes centenas.

582	
963	
120	
300	

6. Observa y escribe el nombre de estos polígonos:



7. Calcula el perímetro de las siguientes figuras



m

cm

8. Selecciona que corresponde

500		582
-----	--	-----

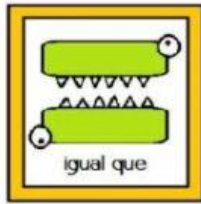


128		128
-----	--	-----



965

741



9. Arrastra la respuesta correcta

segmento

recta

semirrecta

- La _____ es una línea que no tiene ni principio ni fin.
- Línea que tiene un principio, pero no tiene fin se llama _____
- El _____ es una línea que tiene un principio y un fin y se puede medir.

10. Selecciona la respuesta correcta

- ¿Con cuál de estos objetos mido la capacidad de cantidad que hay en un objeto?



- ¿Cuánto es _____ de litro?



500ml

250ml

600ml

ELABORADO POR:	REVISADO POR:	REPRESENTANTE	ESTUDIANTE
Lic. Wendy Romero			
 FIRMA	FIRMA	FIRMA	FIRMA