

LEMBAR KERJA PESERTA DIDIK

sistem pencernaan pada hewan ruminansia (Sapi)

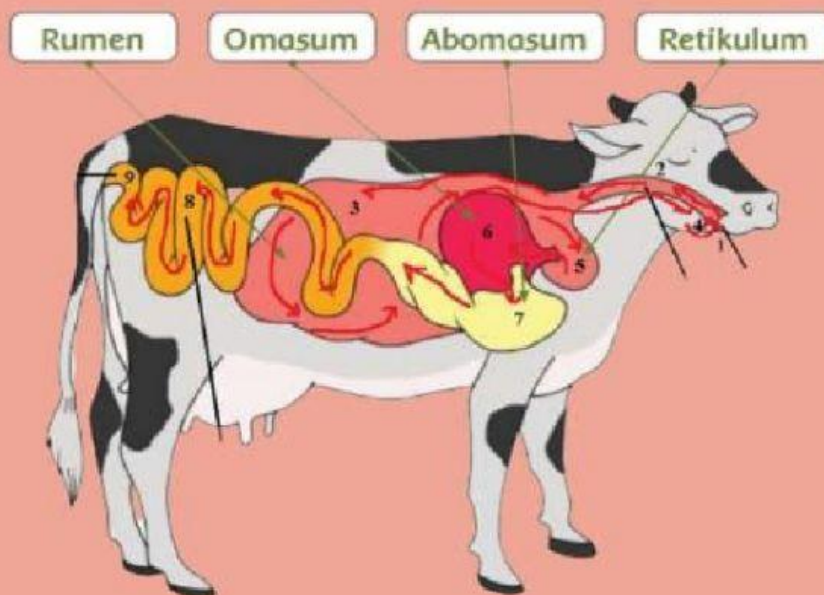
5

Tema 3

Makanan Sehat

Sub tema 1

Bagaimana Mengolah Makanan?




Nama :
Kelas :
No Absen :

MATERI

Ayo Mengamati

Untuk menghasilkan susu jenis makanan apa yang biasa aku konsumsi? Bagaimana aku mencernanya?

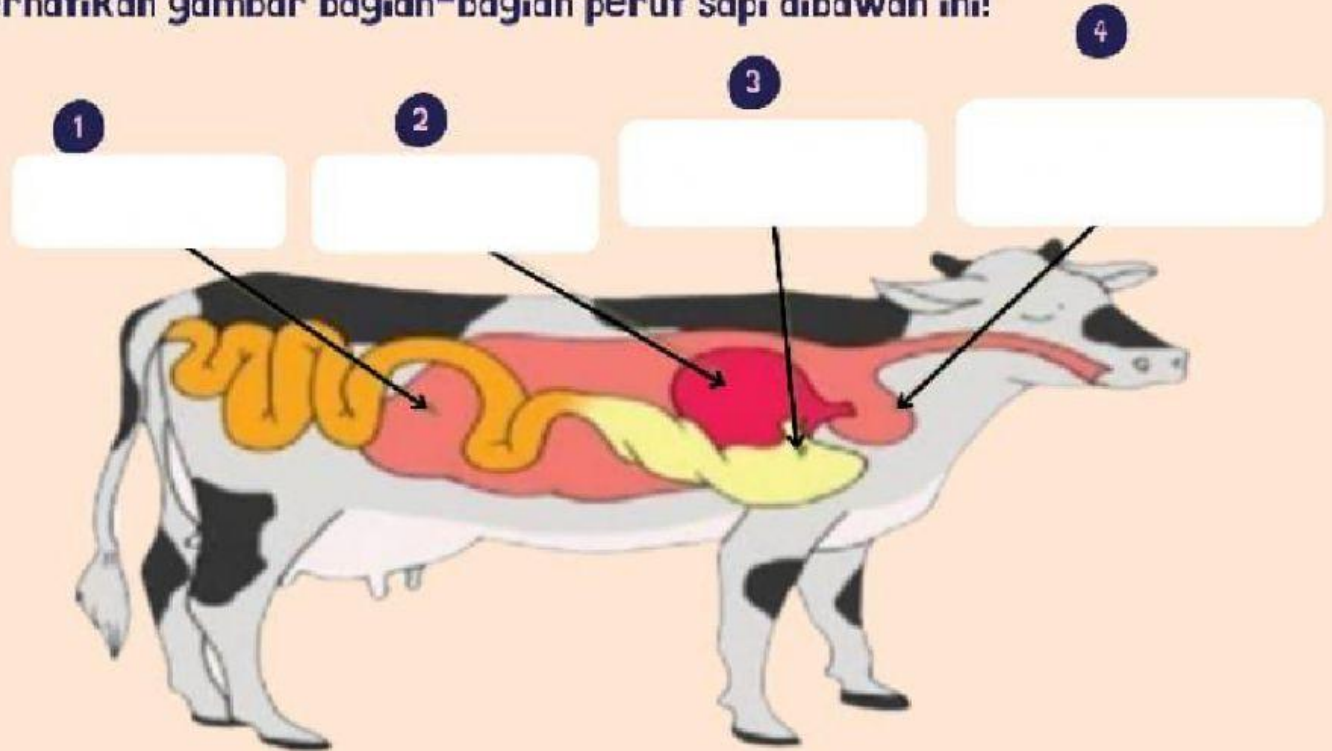


Perhatikan tayangan video berikut!



KUIS DROP DOWN

Perhatikan gambar bagian-bagian perut sapi dibawah ini!



Rumen

Abomasum

Reticulum

Omasum

KUIS MENJODOHKAN

Hubungkan pernyataan berikut dengan garis pada jawaban yang saling bersesuaian

Abomasum

Rumen

Retikulum

Omasum

Perut Besar

Perut kitab

Perut Masam

Perut Jala

KUIS PILIHAN GANDA

1 Tempat terjadinya pencernaan dengan bantuan mikroba (bakteri). Di sini makanan dicerna hingga menjadi bubur dengan gerakan mengaduk hal ini merupakan kerja perut sapi yaitu

Perut jala

Perut kitab

Perut besar

Perut masam



2 Perut sapi yang merupakan lambung sebenarnya Dan di dalam mencerna dibantu dengan enzim pepsin adalah.....

Perut jala

Perut kitab

Perut besar

Perut masam



Menemukan Kata

R	E	T	I	K	U	M	D	A	N	R	U	M	E	N
A	A	D	G	O	M	A	S	U	M	W	S	A	T	W
M	M	A	Y	S	A	S	U	M	M	A	D	E	E	A
I	W	E	Q	R	T	M	H	U	D	R	G	R	S	R
N	D	M	A	E	T	A	T	E	A	G	W	T	S	I
A	T	P	I	O	T	N	F	R	E	T	I	K	U	L
B	H	A	N	U	S	U	G	U	F	S	A	R	H	K
O	J	T	Y	R	R	S	N	M	E	T	F	B	S	S
S	J	U	T	U	E	O	A	E	E	R	A	F	K	A
M	J	K	T	M	W	A	B	N	R	R	R	A	A	P
A	Y	A	M	P	S	H	A	A	D	F	F	M	M	I

Soal

1. Istilah lain perut kitab pada hewan ruminansia adalah
2. Hewan ruminansia mempunyai lambung yang terdiri atas bagian.
3. Bagian lambung hewan ruminansia yang berfungsi sebagai penyimpan makanan sementara untuk dikunyah kembali adalah
4. Makanan sebelum memasuki bagian lambung yang dinamakan omasum mengalami pencernaan terlebih dahulu dibagian dan
5. Hasil akhir pencernaan makanan pada hewan ruminansia yang berupa feses dikeluarkan melalui.....

No	Nama Organ	Fungsi Organ
1.	Rumen	
2.	<u>Retikulum</u>	
3.	Omasum	
4.	Abomasum	