


Nama :

Absen :

Kelas :

### TEOREMA PYTHAGORAS

A. PERHATIKAN VIDEO BERIKUT INI!

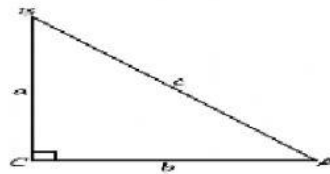
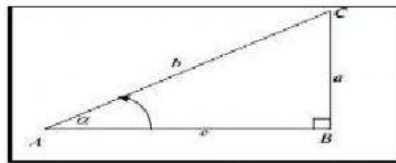


B. ISIAN SINGKAT

1. Diketahui segitiga siku-siku ABC, dengan siku-siku di C. Bagaimana rumus mencari hipotenusanya...
2. Sebuah segitiga siku-siku KLM, apabila KL adalah sisi miring. Maka letak siku-sikunya ada di titik ...

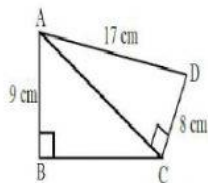
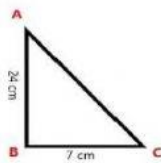
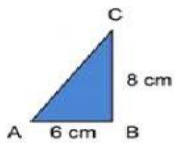
C. DROP DOWN

Pilihlah jawaban yang tepat dan benar di bawah ini!



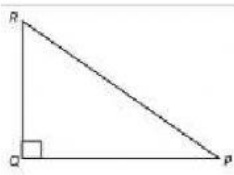
D. JOIN ARROW

Gambarlah garis, dan cocokkan gambar dengan jawaban yang tepat!

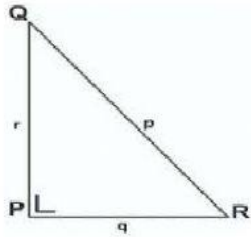


E. DRAG AND DROP

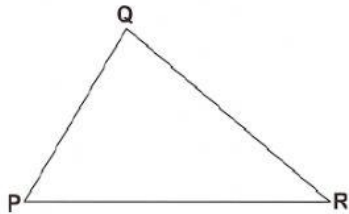
Pindahkan gambar ke kotak kuning sesuai dengan penjelasan yang benar.



Segitiga siku-siku  
dengan siku-siku di P



Bukan merupakan  
segitiga siku-siku



Segitiga siku-siku  
dengan siku-siku di Q