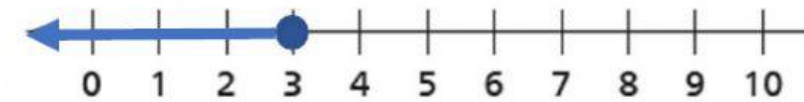
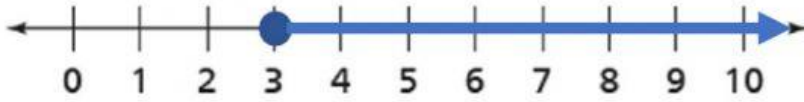
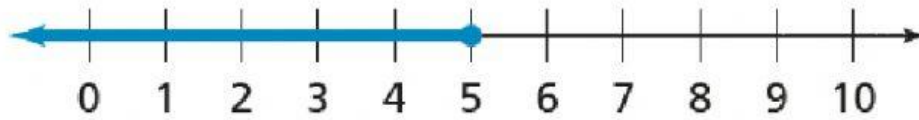


أي مما يلي يمثل التمثيل الصحيح للمتباينة $X > 3$



أي مما يلي يمثل الكتابة الصحيحة للمتباينة الممثلة بخط الاعداد ادناه



$$X > 5$$

$$X \geq 5$$

$$X < 5$$

$$X \leq 5$$