

Hiru zifrako zenbakiak irakurtzea eta idaztea


1 Idatzi nola irakurtzen diren zenbaki hauek.






398





2 Begiratu globoetako zenbakiak eta idatzi nola irakurtzen diren hauek.



• Zero hamarreko dituzten zenbakiak.



• Zero bateko dituzten zenbakiak.



3 Zein zenbaki du Joxeren etxeak? Irakurri eta aurkitu.



Nire etxeko zenbakiak ehunekoen zifra batekoen zifra baino handiagoa du.

Zein zenbaki du etxeak?



106
570
870
315
902
341
296



4 Irakurri eta lotu.

Ehun eta laurogeita bi	279
Berrehun eta hirurogeita hemeretzi	182
Laurehun eta laurogeita hamabi	735
Seiehun eta hogeita bederatzi	492
Zazpiehun eta hogeita hamabost	629
Bederatziehun eta berrogeita bi	942

5 Idatzi zenbakiak.

Berrehun eta berrogeita zazpi	▶	<input type="text"/>	Hirurehun eta bost	▶	<input type="text"/>
Laurehun eta hogeita hamaika	▶	<input type="text"/>	Seiehun eta laurogei	▶	<input type="text"/>
Bostehun eta berrogeita hamar	▶	<input type="text"/>	Zortziehun eta bederatzi	▶	<input type="text"/>
Zazpiehun eta bederatzi	▶	<input type="text"/>	Bederatziehun eta bost	▶	<input type="text"/>

6 Irakurri albistea eta inguratu saritutako zenbakiak dituzten txartelak.

IRAGARKI-TAULA

Ikastetxeko tonbolan, zenbaki hauek izan dira sarituak:

- Bostehun eta berrogeita hemeretzi.
- Zazpiehun eta laurogeita hamabost.
- Bederatziehun eta hamabost.
- Zortziehun eta hamazortzi.

795

808

915

905

559

818

7 Hiru zifrako zenbat zenbaki osa daitezke hitz hauen bidez? Idatzi zenbakiak.

