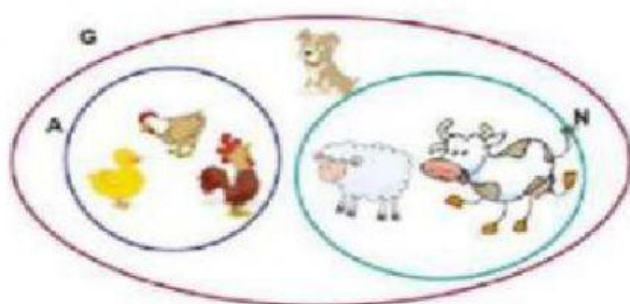


1. Ubique el signo de contiene



A		N
N		G
G		A
A		G

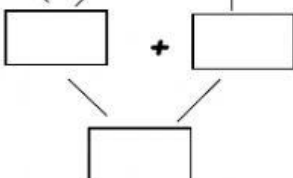
2. Resuelva las siguientes operaciones.

$$\begin{array}{r} 2532 \\ +2334 \\ \hline \end{array}$$

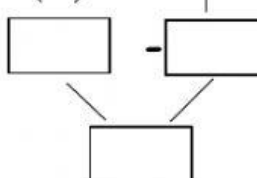
$$\begin{array}{r} 9757 \\ -3431 \\ \hline \end{array}$$

3. Resuelva las operaciones combinadas.


a. $64 - 3 + 3$



b. $80 + 6 - 11$



4. Una con líneas el nombre de los ángulos:



Llano

Obtuso

Recto

Agudo