




الأشكال الثنائية الأبعاد


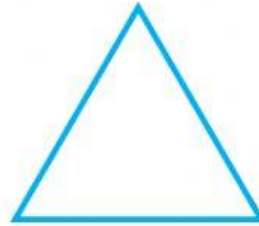

اسم الطالب:

الصف: /


اختر التصنيف الصحيح لكل شكل مما يأتي:



اختر التصنيف الصحيح لكل شكل مما يأتي:



اكتب عدد أضلاع كل مضلع فيما يأتي:



إعداد مدرس المادة :
أ. غدير البري