



Họ và tên:Lớp:

TOÁN 5 – LUYỆN TẬP – TRANG 88

Nhận xét của giáo viên:

THỰC HÀNH

Bài 1: Tính diện tích hình tam giác có độ dài đáy là a và chiều cao là h :

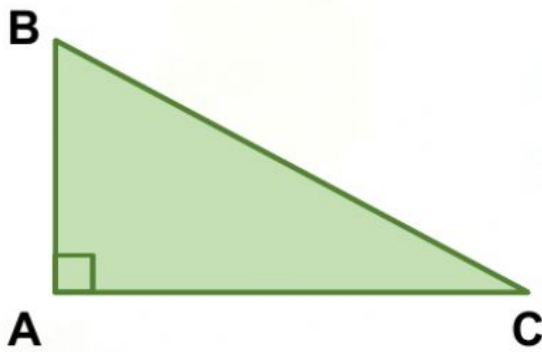
1. $a = 30,5 \text{ dm}$ và $h = 12 \text{ dm}$.

Bài giải

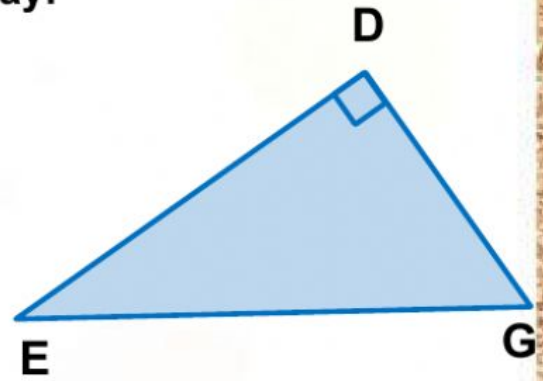
2. $a = 16 \text{ dm}$ và $h = 5,3 \text{ m}$.

Bài giải

Bài 2: Hãy chỉ ra đáy và đường cao tương ứng đã có trong mỗi hình tam giác vuông dưới đây:



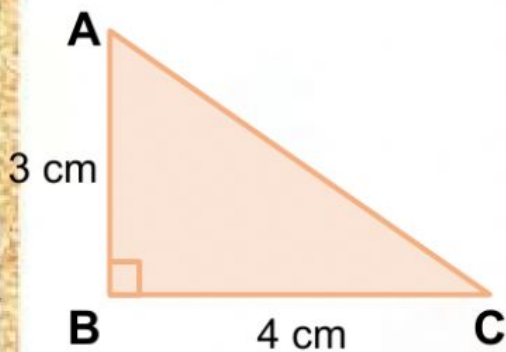
Tam giác vuông có:
Đường cao:
Độ dài đáy:



Tam giác vuông có:
Đường cao:
Độ dài đáy:

Bài 3: a. Tính diện tích hình tam giác vuông ABC.

Bài giải



Bài 3: b. Tính diện tích hình tam giác vuông DEG.

Bài giải

