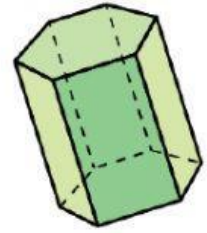
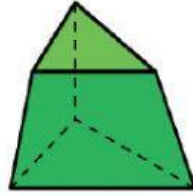
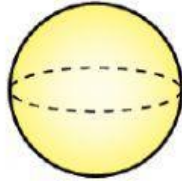
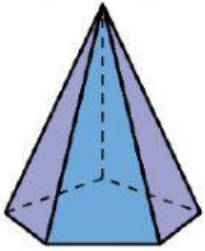


CUERPOS GEOMÉTRICOS

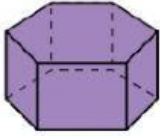

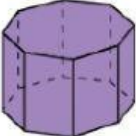

1. Clasifica cada cuerpo



2. Di si las siguientes oraciones son verdaderas o falsas.

- Todos los poliedros son prismas o pirámides.
- Todos los prismas y pirámides son poliedros.
- Los cuerpos redondos tienen todas sus superficies curvas.
- Un poliedro tiene siempre más de 3 caras.
- Un prisma tiene siempre un número par de vértices.

3. Completa la tabla.

				
Número de caras				
Número de vértices				
Número de aristas				