





Calcula el peso de estos regalos:

<p><b>a</b></p>  <p>16 kg</p>	<p><b>b</b></p> 	<p><b>c</b></p>  <p>28 kg</p>	<p><b>d</b></p> 
<p>El regalo <b>b</b> pesa 17 kg más que el <b>c</b>. ¿Cuánto pesa el <b>b</b>?</p> <p><b>Solución</b> ..... kg</p>		<p>El regalo <b>d</b> pesa 32 kg menos que el <b>b</b>. ¿Cuánto pesa el <b>d</b>?</p> <p><b>Solución</b> ..... kg</p>	
<p>¿Cuánto más pesa el regalo <b>c</b> que el <b>a</b>?</p> <p><b>Solución</b> ..... kg</p>		<p>¿Cuánto pesan los regalos <b>b</b> y <b>c</b> juntos?</p> <p><b>Solución</b> ..... kg</p>	

Ordena de menor a mayor el peso de los regalos:

