

Le saponette profumate costano € 2 l'una.

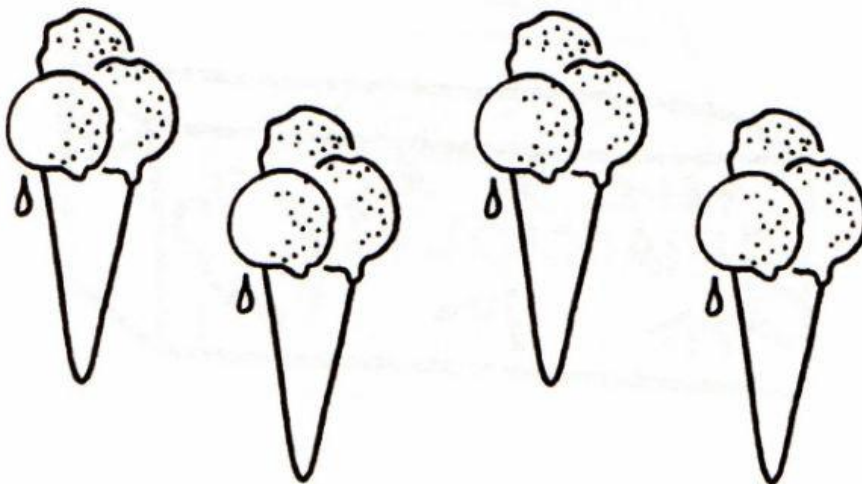


Formula la domanda e completa il riquadro.

PREZZO TOTALE	
QUANTITÀ	PREZZO UNITARIO

Domanda _____ ?

Ciascuno dei 4 coni costa € 1.




Formula la domanda e completa il riquadro.

PREZZO TOTALE	
QUANTITÀ	PREZZO UNITARIO

Domanda _____ ?

Il prezzo è € 4 alla lattina.



Formula la domanda e completa il riquadro.

PREZZO TOTALE	
QUANTITÀ	PREZZO UNITARIO

Domanda _____ ?

Ogni pacco di caffè costa € 3.



Formula la domanda e completa il riquadro.

PREZZO TOTALE	
QUANTITÀ	PREZZO UNITARIO

Domanda _____ ?

Il prezzo è € 3 a confezione.




Formula la domanda e completa il riquadro.

PREZZO TOTALE	
QUANTITÀ	PREZZO UNITARIO

Domanda _____ ?

Il prezzo dei quaderni è € 6.



Formula la domanda e completa il riquadro.

PREZZO TOTALE	
QUANTITÀ	PREZZO UNITARIO

Domanda _____ ?