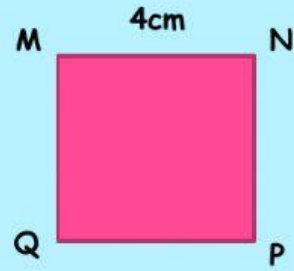
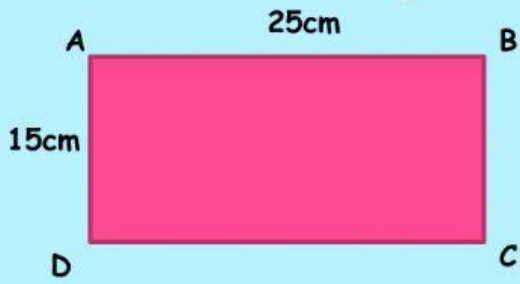


Viết tiếp vào chỗ chấm:



a) Chu vi hình chữ nhật ABCD là:

b) Chu vi hình vuông MNPQ là:

Bài 2

Khung của một bức tranh có chiều dài là 40cm, chiều rộng là 30cm. Hỏi chu vi của khung bức tranh đó bằng bao nhiêu đề-xi-mét?

**Bài giải**

Bài 3

Người ta uốn một đoạn dây thép vừa đủ thành một hình vuông cạnh 8cm. Tính độ dài đoạn dây đó?



Bài giải

Tính cạnh của hình vuông, biết chu vi hình vuông là 36dm?



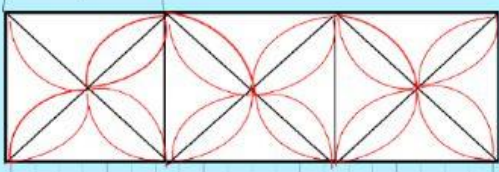
Bài giải

Bài 5

Mỗi viên gạch hình vuông có cạnh 20 cm. Tính chu vi hình chữ nhật ghép bởi 3 viên gạch như thế.



20 cm

**Bài giải**