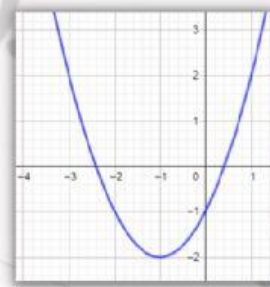
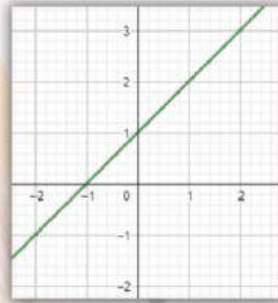
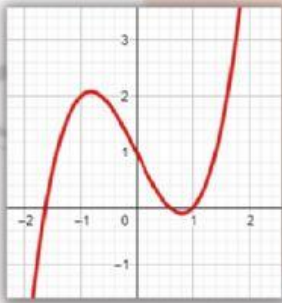




NOMBRE DEL ALUMNO:

GRUPO:

- Marca la gráfica que representa una función cuadrática



- Selecciona el grado de una función lineal

0

1

2

- Selecciona el resultado de evaluar la función:

$y = 2x + 1$  cuando  $x = -2$