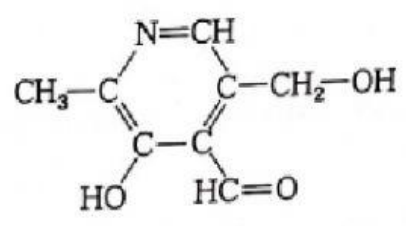


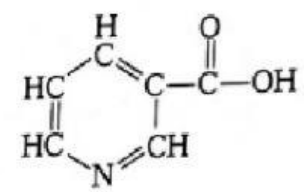


แบบฝึกหัด 3.3

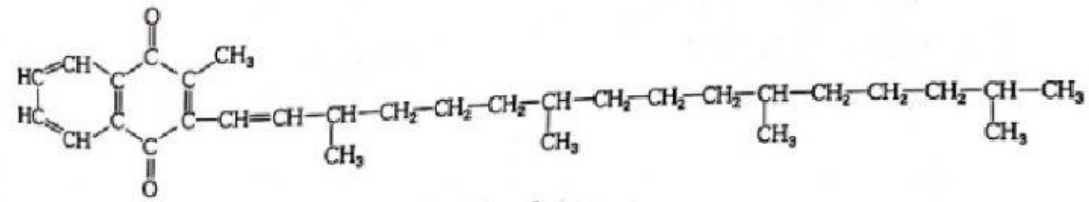
จงระบุว่าวิตามินที่กำหนดให้ต่อไปนี้ละลายในน้ำหรือไขมัน เพราะเหตุใด



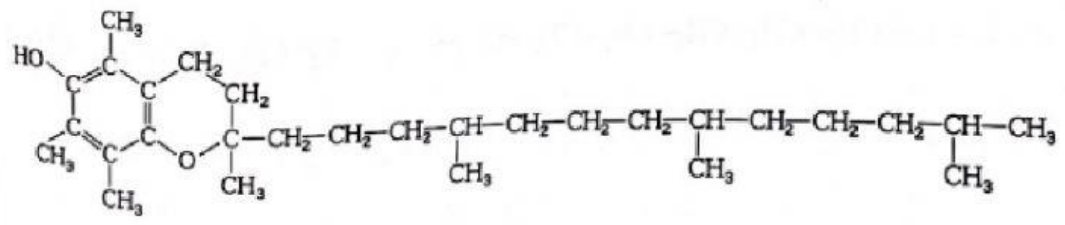
วิตามิน B6



วิตามิน B3



วิตามิน K



วิตามิน E