


ΟΝΟΜΑ: _____

Διαιρέσεις

1. Κάνω τις παρακάτω διαιρέσεις, όπως το παράδειγμα.

$15 : 5 = 3$	γιατί $3 \times 5 = 15$
$48 : 8 = \underline{\quad}$	γιατί $\underline{\quad} \times \underline{\quad} = \underline{\quad}$
$54 : 6 = \underline{\quad}$	γιατί $\underline{\quad} \times \underline{\quad} = \underline{\quad}$
$63 : 9 = \underline{\quad}$	γιατί $\underline{\quad} \times \underline{\quad} = \underline{\quad}$
$56 : 8 = \underline{\quad}$	γιατί $\underline{\quad} \times \underline{\quad} = \underline{\quad}$
$32 : 4 = \underline{\quad}$	γιατί $\underline{\quad} \times \underline{\quad} = \underline{\quad}$

Θυμάμαι ότι η
Διαίρεση είναι η
αντίστροφη πράξη του
Πολλαπλασιασμού.



2. Συμπληρώνω τα κενά, όπως το παράδειγμα.

$40 = (8 \times 5)$	$16 = (4 \times \underline{\quad})$	$81 = (9 \times \underline{\quad})$
$30 = (10 \times \underline{\quad})$	$56 = (\underline{\quad} \times 7)$	$18 = (\underline{\quad} \times 6)$
$24 = (3 \times \underline{\quad})$	$81 = (9 \times \underline{\quad})$	$32 = (4 \times \underline{\quad})$
$64 = (\underline{\quad} \times 8)$	$77 = (\underline{\quad} \times 11)$	$54 = (\underline{\quad} \times 6)$

3. Λύνω τα παρακάτω προβλήματα:

Ο κύριος Αντώνης μοίρασε στα 4 εγγόνια του 36 ευρώ. Πόσα ευρώ πήρε το κάθε παιδί;

Λύση:



Απάντηση:

Η κυρία Ιφιγένεια μοιράζει στους 9 μαθητές της 27 καραμέλες. Πόσες καραμέλες θα πάρει ο κάθε μαθητής;

Λύση:

Απάντηση: _____



ΕΠΑΝΑΛΗΨΗ

Λύνω το παρακάτω πρόβλημα:

Ο Βασίλης αγόρασε μια μπάλα ποδοσφαίρου 38 ευρώ. Έδωσε ένα χαρτονόμισμα των 50 ευρώ. Πόσα ρέστα πήρε;






38 €

Υπολογίζω κάθετα:

Απάντηση: _____

ΠΟΛΛΑΠΛΑΣΙΑΣΜΟΙ

Συμπληρώνω τα κουτάκια.

$5 \times 8 = \square$		$7 \times 3 = \square$		$9 \times 2 = \square$		$3 \times 6 = \square$
$6 \times 4 = \square$		$3 \times 3 = \square$		$7 \times 7 = \square$		$7 \times 5 = \square$
$9 \times 6 = \square$		$6 \times 5 = \square$		$8 \times 6 = \square$		$8 \times 8 = \square$
$8 \times 7 = \square$		$7 \times 4 = \square$		$6 \times 3 = \square$		$3 \times 8 = \square$