



SD 1 YAYASAN PUPUK KALTIM
LEMBAR KERJA PESERTA DIDIK
TEMA 5 SUB TEMA 1 PEMBELAJARAN 6

Nama : _____

Tanggal : _____

Hujan Deras

Hari ini, Ari dan ayahnya berencana pergi memancing. Sayangnya, sejak pagi hujan turun dengan deras. Langit tampak begitu gelap. Angin pun berembus dengan kencang. Petir terdengar menggelegar dan tampak menyambar-nyambar di langit.

"Yah, apakah kita jadi pergi memancing?" tanya Ari pada Ayah yang sedang duduk membaca koran.

"Sepertinya tidak, Nak. Maaf, ya, Nak. Sejak pagi hujan turun dengan deras. Tidak ada tanda-tanda akan reda. Kita tidak mungkin memancing saat cuaca seperti ini," jawab ayah Ari.

Wajah Ari seketika murung. Ia tampak kecewa. "Padahal belum musim hujan, tetapi mengapa akhir-akhir ini sering hujan, ya?"

"Begitulah cuaca, Nak, tidak dapat ditebak. Apalagi sekarang sedang terjadi pemanasan global. Hal itu menyebabkan cuaca semakin tak menentu, jelas ayah Ari. "Bagaimana jika minggu depan cuaca cerah dan tidak hujan, kita pergi memancing?"

"Wah, setuju, Yahl" seru Ari.

Jawablah dengan lengkap pertanyaan berikut berdasarkan informasi dari teks tersebut!

1. Kegiatan apakah yang hendak dilakukan Ari dan ayahnya?

2. Mengapa Ari dan ayahnya tidak jadi melakukan kegiatan tersebut?

3. Bagaimana cuaca pada hari ini?

4. Kegiatan apakah yang akan dilakukan Ari dan ayahnya jika minggu depan cuaca cerah?

Pasangkanlah sesuai dengan artinya!

Hujan



kondisi di mana matahari bersinar dengan terang tanpa adanya halangan **dari** awan atau hujan

Mendung



keadaan langit yang agak gelap, tidak ada sinar matahari (karena tertutup awan)

Cerah



kilatan listrik yang muncul di udara (langit) yang seringkali disertai dengan bunyi gemuruh

Petir



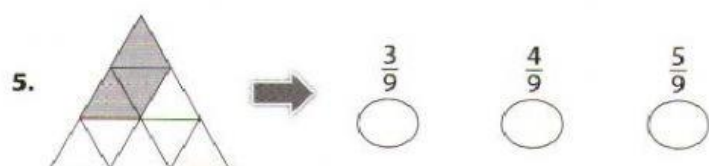
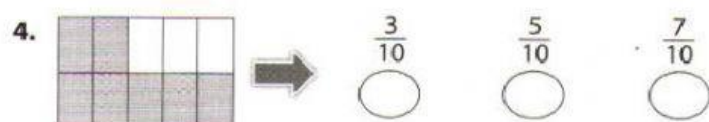
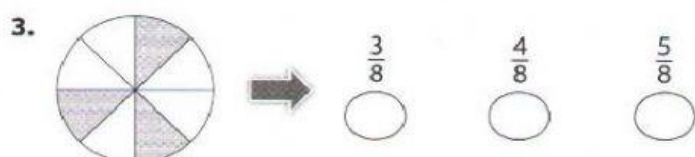
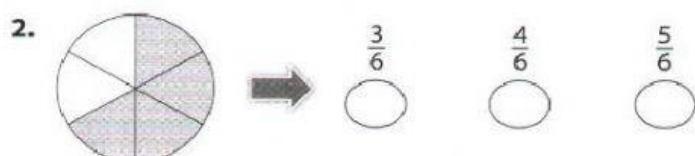

titik-titik air yang berjatuhan **dari** udara karena proses pendinginan

Berawan



cuaca yang menunjukkan bahwa di langit banyak terdapat awan

A. Pilihlah bentuk pecahan yang sesuai dengan bagian yang diarsir!




B. Tulislah lambang pecahan yang tepat sesuai bagian yang dilingkari!


1



2



3



Bacalah pernyataan-pernyataan berikut dengan saksama. Menurutmu, manakah pernyataan yang menunjukkan sikap persatuan dalam keberagaman?

Tulislah **benar** untuk sikap yang benar.

Tulislah **salah** untuk sikap yang salah.

- () Memilih teman berdasarkan asal sukunya.
- () Memberi makanan tradisional kepada tetangga.
- () Mendatangi festival makanan khas daerah.
- () Memuji kelezatan makanan tradisional buatan ibu.
- () Menghabiskan makanan yang disajikan ketika bertamu ke rumah tetangga.
- () Menolak makanan tradisional yang diberikan oleh teman karena terlalu pedas.