



แบบฝึกหัด 7.2

เขียนคำตอบจากแผนภูมิรูปภาพ

- 1 จำนวนนักเรียนที่เป็นนักกีฬาโรงเรียนของแต่ละระดับชั้น






ป.1	
ป.2	
ป.3	
ป.4	
ป.5	
ป.6	

กำหนดให้ แทนจำนวนนักกีฬา 2 คน

- กำหนดให้ แทนจำนวนนักกีฬา คน
- ระดับชั้นที่มีนักกีฬามากที่สุด คือ มี คน
- ระดับชั้นที่มีนักกีฬาเท่ากัน คือ กับ
- ระดับชั้นที่มีนักกีฬามากที่สุดและน้อยที่สุดมีนักกีฬารวมกัน คน
- ระดับชั้น ป.6 มีนักกีฬาน้อยกว่าระดับชั้น ป.5 อยู่ คน
- ระดับชั้น มีนักกีฬาน้อยกว่าระดับชั้น ป.5 แต่มากกว่าชั้น ป. 6
- ระดับชั้น ป.1 ถึง ป.6 มีนักกีฬารวมทั้งหมด คน



2 จำนวนเหรียญทองที่นักกีฬาต่าง ๆ ได้จากการแข่งขันกีฬาสีของโรงเรียน

				
สีแดง	สีเหลือง	สีเขียว	สีส้ม	สีฟ้า

กำหนดให้  แทนจำนวนเหรียญทอง 2 เหรียญ

- 1) สีใดบ้าง ได้เหรียญทองมากกว่า 10 เหรียญ
- 2) นักกีฬาแต่ละสีได้เหรียญทองดังนี้ สีแดงได้ เหรียญ สีเหลืองได้ เหรียญ
สีเขียวได้ เหรียญ สีส้มได้ เหรียญ และสีฟ้าได้ เหรียญ
- 3) การแข่งขันกีฬาสีครั้งนี้ นักกีฬาทุกสีได้เหรียญทองรวมกัน เหรียญ
- 4) เรียงลำดับสีที่ได้เหรียญทองมากที่สุดไปน้อยที่สุด ได้แก่
.....
.....
- 5) สีที่ได้เหรียญทองน้อยที่สุด ต้องได้เหรียญทองเพิ่มอีก เหรียญ จึงจะมี
จำนวนเท่ากับสีที่ได้เหรียญทองมากที่สุด
- 6) สีที่ได้เหรียญทองมากกว่าสีแดงแต่น้อยกว่าสีเขียว คือ
- 7) สีที่ได้เหรียญทองรวมกัน 20 เหรียญ คือ กับ