





**Hãy viết  
phân số  
biểu thị  
phần  
được tô  
màu ở  
các hình  
bên**



Hình 1

\_\_\_\_\_



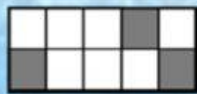
Hình 2

\_\_\_\_\_



Hình 3

\_\_\_\_\_



Hình 4

\_\_\_\_\_

Tên: .....

Lớp 6/ ....



Hình 5

\_\_\_\_\_



Hình 6

\_\_\_\_\_



\_\_\_\_\_