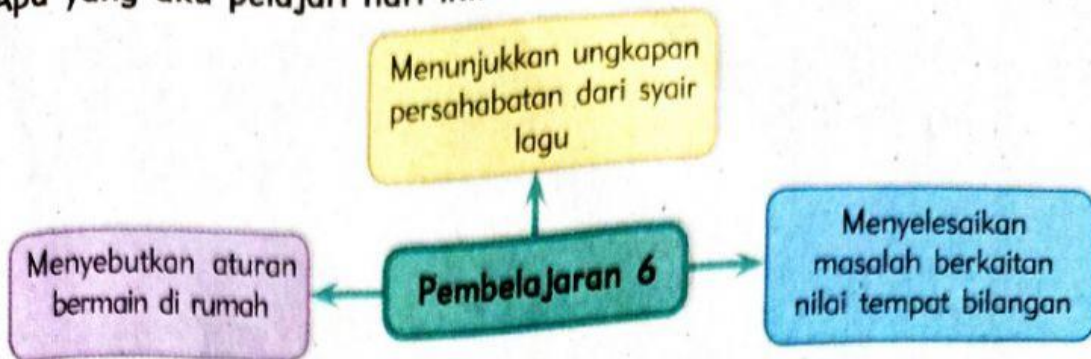


## Pembelajaran 6

Apa yang aku pelajari hari ini?





### Ayo Berhitung

Rumah Deli nomor 22.  
Bilangan 22 disusun dari angka 2 dan 2.  
Angka 2 mempunyai nilai yang berbeda.  
Nilainya tergantung tempatnya.

$$\begin{aligned} 22 &= 2 \text{ puluhan} + 2 \text{ satuan} \\ 22 &= 20 + 2 \end{aligned}$$

Ibu Deli sedang membuat kue.  
Deli dan teman-teman membantu ibu menyiapkan telur.

Lengkapilah dengan bilangan yang tepat.



Sumber: dokumen penerbit

$$35 = \square + \square$$

$$35 = 3 \text{ puluhan} + \square \text{ satuan}$$

$$40 = \square + \square$$

$$40 = \square \text{ puluhan} + 0 \text{ satuan}$$



Sumber: dokumen penerbit

Nilai tempat: satuan  
Nilainya: 2

Nilai tempat: puluhan  
Nilainya: 20