

TEMA 6 (CITA-CITAKU)

SUB TEMA 1 (AKU DAN CITA-CITAKU)

Siklus hidup makhluk hidup

Nama : _____

Ayo Mengamati

Amatilah gambar beberapa hewan peliharaan di bawah ini!

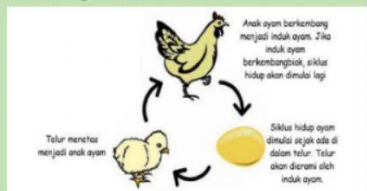


Pada gambar tersebut terdapat anak-anak hewan dan hewan yang sudah dewasa. Apakah anak-anak hewan akan tumbuh menjadi dewasa dan beranak seperti induknya?

Ayo Membaca

Setiap makhluk hidup mengalami pertumbuhan dan perkembangan. Manusia, hewan, dan tumbuhan mengalami beberapa tahap pertumbuhan dan perkembangan. Tahap pertumbuhan dan perkembangan makhluk hidup dari lahir hingga mati disebut **siklus hidup**.

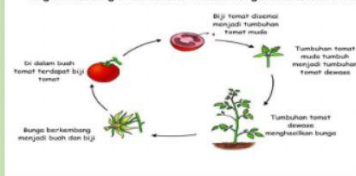
Perhatikan gambar di bawah ini!



Siklus hidup ayam dimulai sejak ada dalam telur. Telur, anak ayam, dan ayam dewasa adalah **tahap-tahap siklus hidup ayam**.

Apakah siklus hidup setiap makhluk hidup sama? Anak kucing tidak menetas dari telur. Anak kucing dilahirkan dari induknya. **Siklus hidup pada setiap makhluk hidup memiliki tahap-tahap yang berbeda.**

Bagaimana dengan tumbuhan? Perhatikan gambar di bawah ini!



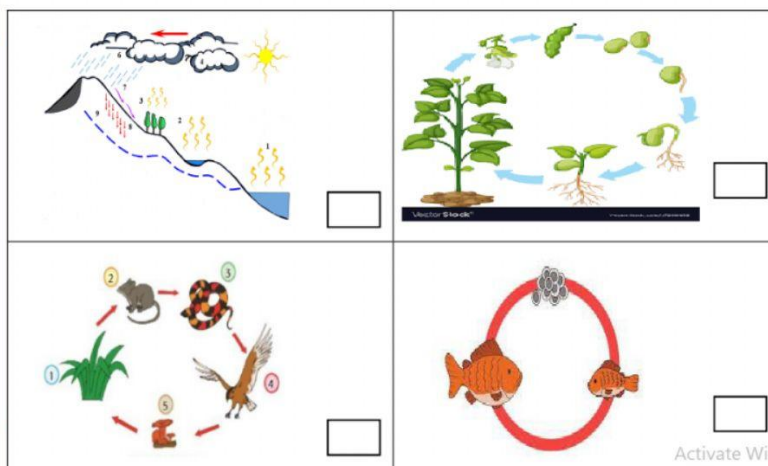
Pada tumbuhan tomat, siklus hidup dimulai dari biji. Biji, tumbuhan tomat muda, tumbuhan tomat dewasa, bunga, dan buah adalah tahap-tahap siklus hidup tumbuhan tomat. **Siklus hidup tumbuhan berbeda dengan siklus hidup hewan.**

Panjang siklus hidup setiap makhluk hidup berbeda-beda. Kura-kura Galapagos bisa hidup hingga lebih dari 150 tahun. Sedangkan alat buah hanya hidup dalam beberapa minggu saja. Tumbuhan padi punya waktu hidup beberapa bulan saja.

Ayo Uji Kemampuan

1

Gambar manakah yang merupakan siklus hidup? Beri ceklis pada kotak kecil di samping gambar!



2

Susunlah tahap pertumbuhan dan perkembangan hewan pada gambar di bawah ini. Berilah nomor urut pada lingkaran di bawah gambar sehingga menunjukkan urutan yang benar.

