

Bài 1: Số?

a)

0	1	2	3	4	5			8	9
10	11	12					17	18	19
20	21	22		24	25	26	27	28	29
30	31				35	36	37		39
40		42	43	44		46	47	48	49
50	51	52			55		57	58	59
60	61	62		64	65	66	67	68	69
70			73	74	75				79
80				84	85	86	87	88	89
90	91			94	95				99

Trong các số từ 0 đến 99:

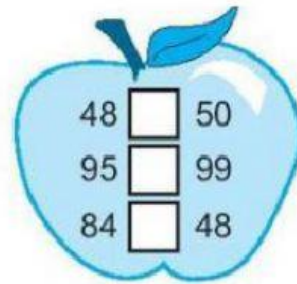
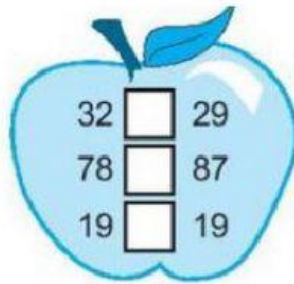
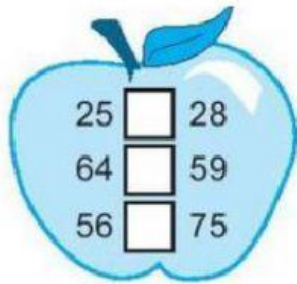
- Số lớn nhất có 1 chữ số là:
- Số bé nhất có 2 chữ số là:
- Số lớn nhất có 2 chữ số là:
- Số bé nhất có 2 chữ số là:
- Các số có hai chữ số giống nhau là:
.....
- Các số tròn chục là:
- Cósố có hai chữ số.

b)

Chục	Đơn vị	Viết số
1	4	14
4	1	
3	8	
7	7	

Chục	Đơn vị	Viết số
2		26
	3	53
		69
		98

Bài 2: Điền dấu >, <, =



20 30

40 70

80 10

90 90

13 14

17 16

18 20


42 50

74 77

35 35

Bài 3:

a) Sắp xếp theo thứ tự từ bé đến lớn



b) Sắp xếp theo thứ tự từ lớn đến bé


38, 31, 35

48, 29, 42

73, 58, 79, 56

96, 45, 59, 88

Bài 4: Số nào bé hơn trong các cặp sau? Điền vào chỗ chấm.



Dặn dò: Các con học thuộc bảng các số từ 0 đến 99, đọc lại cho bố mẹ nghe.