
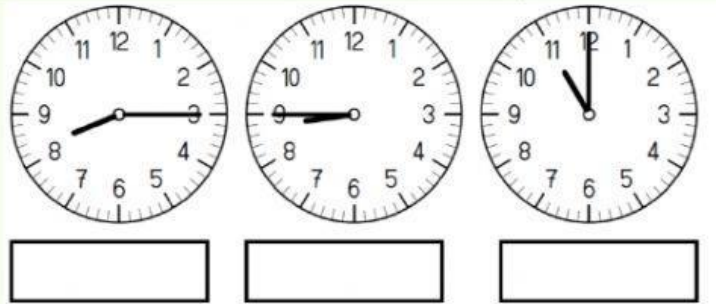



RELOJ DIGITAL

Escribe la hora como en un reloj digital



Arrastra cada reloj digital donde corresponda.



Coloca cada reloj en el lugar que le corresponda


Las 4 menos cuarto	Las 4 y cuarto	Las 4 menos cinco	Las 3 y diez




¿Cuánto tiempo tardo? Marca la hora de inicio y final en un reloj digital

Los miércoles voy a clase de inglés de 6 a 8 de la tarde. ¿Cuánto tiempo dura la clase?

Empieza



Acaba



La clase dura: horas.

Te vas al colegio a las 9 de la mañana y vuelves a las 2:30 de la tarde. ¿Cuánto tiempo estás en el colegio?

Voy



Vuelvo



Estoy en el colegio:

El tren sale a las 10 de la mañana y llegaremos a nuestro destino a las 6 de la tarde. ¿Cuánto tiempo estaremos viajando?

Salgo



Llego



Estoy viajando: horas.

La fiesta de cumpleaños comienza a las 5:15 de la tarde y acaba a las 7 de la tarde. ¿Cuánto tiempo estaré en la fiesta?

Empieza



Acaba



La fiesta dura: