

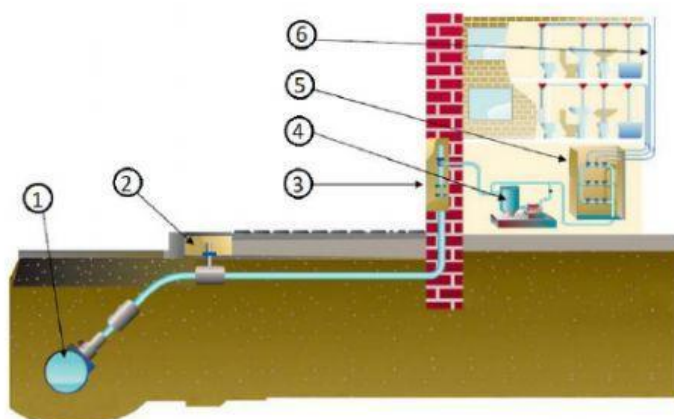
ALUMNO: _____



1. Indica las fases del **ciclo integral del agua**.

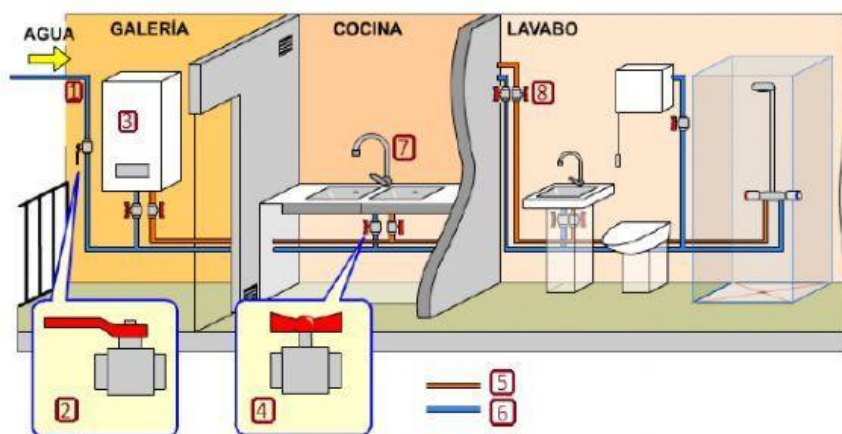
- 1.
- 2.
- 3.
- 4.
- 5.
- 6.

2. Nombra los elementos que encontramos en la instalación de enlace del agua en una vivienda:



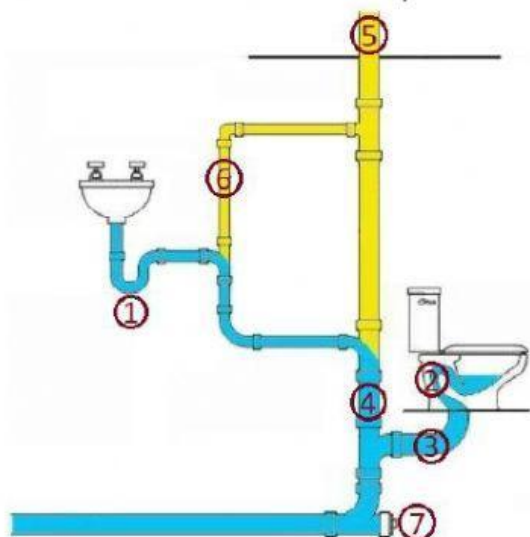
- 1.
- 2.
- 3.
- 4.
- 5.
- 6.

3. Indica el nombre de los componentes de la **instalación de fontanería de un piso**.



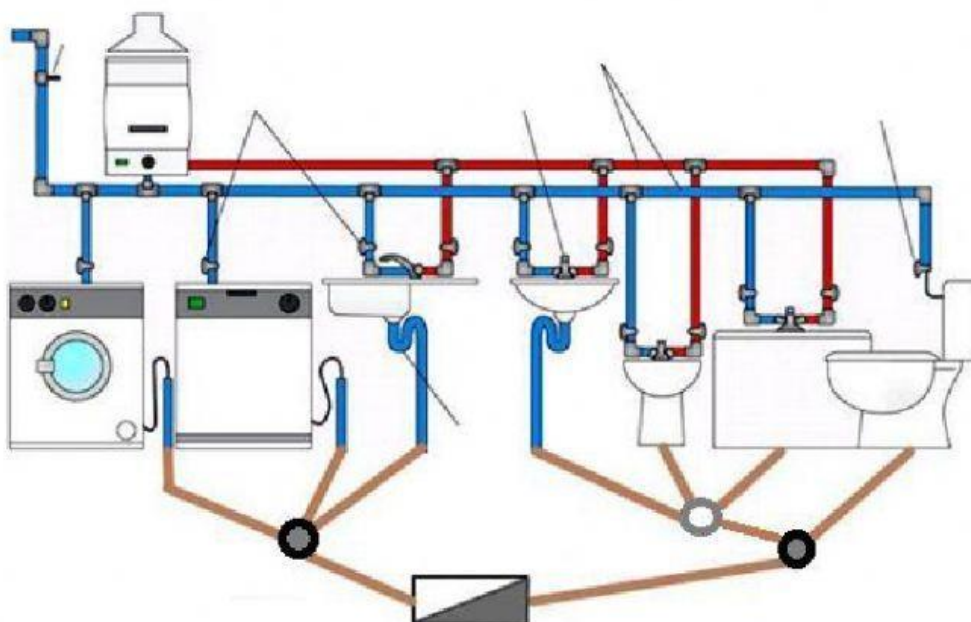
- 1.
- 2.
- 3.
- 4.
- 5.
- 6.
- 7.
- 8.

4. Indica el nombre de los componentes de una **instalación de saneamiento interior**.

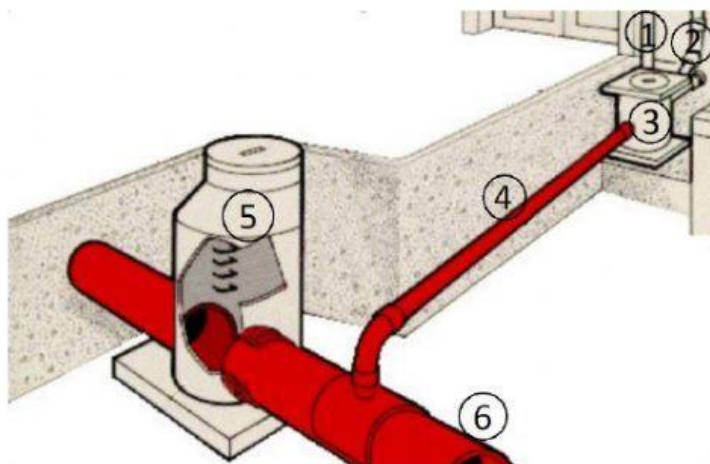


- 1.
- 2.
- 3.
- 4.
- 5.
- 6.
- 7.

5. Indica el nombre de los componentes de la **instalación interior de agua y saneamiento**:



6. Indica el nombre de los componentes de una **instalación de saneamiento exterior**.



- 1.
- 2.
- 3.
- 4.
- 5.
- 6.