

NOME:..... PROVA N°3 (A)

Ob: Conosce i numeri fino al 500 e sa operare con essi

- Rispondi alle domande colorando il quadratino con la risposta corretta

- Quanto devi aggiungere a **8 da** per arrivare a **100 u**?

☐ 20 u      ☐ 200 u      ☐ 2 u

- Se calcoli **8 da + 15u**, che cosa ottieni?

☐ 23      ☐ 95      ☐ 815

- Se sottrai **8 da a 100 u**, che cosa scrivi?

☐ 800 - 100      ☐ 100 - 80      ☐ 1000 - 80

**-Confronta i numeri usando i simboli <>=**

167 ....176

77 .... 177

370.... 307

440... 440

301....103

187....189

101 .... 99

100 u.... 10 da

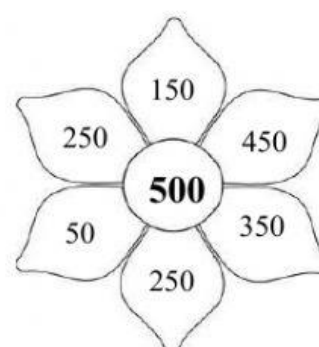

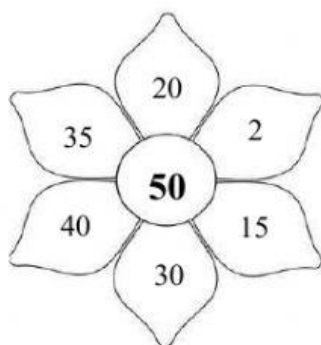
3 da ... 3h

15 da.... 50

60 u....6h

5 h .... 500

**-Colora con lo stesso colore i petali con i numeri che sommati tra di loro formano il numero al centro.**



**-Definisci il numero precedente e il numero successivo al numero dato**

Precedente	Numero	Successivo
	246	
	357	
	499	
	187	


Precedente	Numero	Successivo
	120	
	149	
	264	
	398	

NOME:..... PROVA N°3 (B)

Ob: Conosce i numeri fino al 500 e sa operare con essi

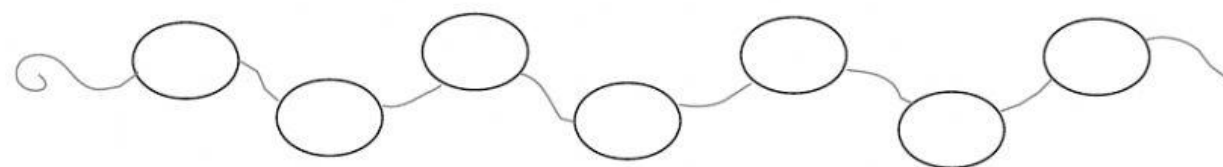
**-Scrivi i seguenti numeri in ordine crescente**

124	254	300	100	85	364	500
-----	-----	-----	-----	----	-----	-----



**-Scrivi i seguenti numeri in ordine decrescente**

213	52	158	500	415	321	312
-----	----	-----	-----	-----	-----	-----



- Colora con lo stesso colore il cartellino con il numero in lettere e il cerchio con il numero in cifre

centoventidue	500	430	quattrocentotrenta
cinquecento	260	122	duecentosessanta

-Scrivi i numeri sotto l'abaco corrispondente.

<div>137</div>	<div>173</div>	<div>150</div>	<div>282</div>	<div>105</div>