

4A2 - 4A4 - 4A8


Họ và tên: _____

PHÂN SỐ

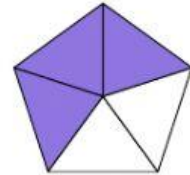
Bài 1. Hãy đọc các phân số sau và nối chúng với hình tương ứng



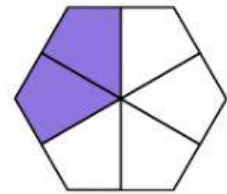
$$\frac{3}{5}$$



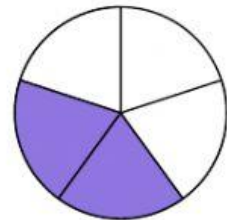
$$\frac{2}{3}$$



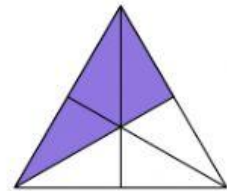
$$\frac{2}{6}$$



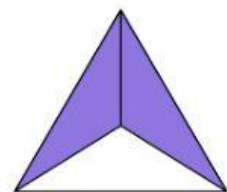
$$\frac{4}{5}$$



$$\frac{2}{5}$$



$$\frac{3}{6}$$



Họ và tên: _____

PHÂN SỐ

Bài 2. Viết các phân số sau

Bảy mươi ba phần ba mươi bảy

—

Sáu mươi hai phần bảy

—

Ba mươi phần tám mươi chín

—

Năm phần bảy mươi sáu

—

Bài 3. Viết phân số chỉ số phần đã tô màu ở hình bên

