

NOME \_\_\_\_\_

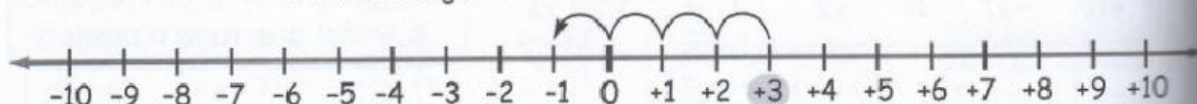
DATA \_\_\_\_\_

## NUMERI RELATIVI

**1** Leggi ed esegui le **operazioni** tra i numeri relativi con l'aiuto della **linea dei numeri**.

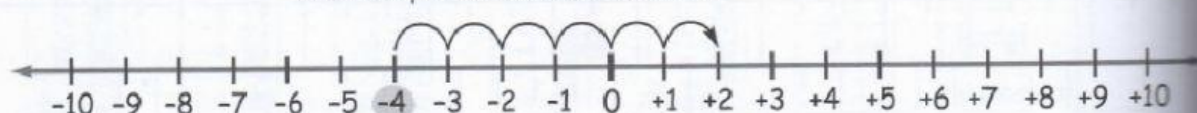
$$+3 - 4 = \dots\dots\dots$$

Parti da  $+3$  e spostati di 4 posizioni verso sinistra, ossia verso i numeri negativi. Arrivi a .....



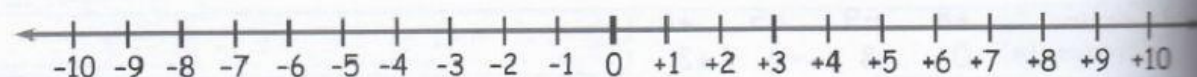
$$-4 + 6 = \dots\dots\dots$$

Parti da  $-4$  e spostati di 6 posizioni verso destra, ossia verso i numeri positivi. Arrivi a .....



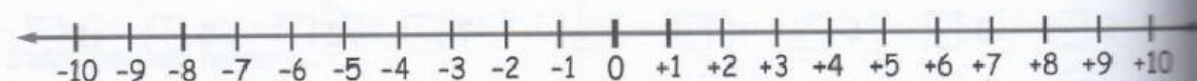
$$+6 - 2 = \dots\dots\dots$$

Parti da  $+6$  e spostati di 2 posizioni verso sinistra, ossia verso i numeri ..... Arrivi a .....

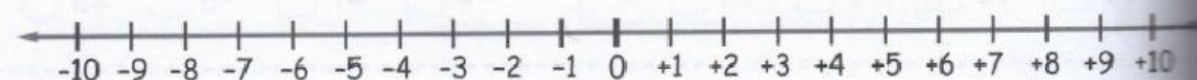


$$-10 + 4 = \dots\dots\dots$$

Parti da  $-10$  e spostati di 4 posizioni verso destra, ossia verso i numeri ..... Arrivi a .....



**2** Esegui le **operazioni tra numeri relativi**. Aiutati con la linea dei numeri.



$$+2 - 8 = \dots\dots\dots$$

$$-1 + 6 = \dots\dots\dots$$

$$+4 - 8 = \dots\dots\dots$$

$$-7 + 7 = \dots\dots\dots$$

$$-9 + 7 = \dots\dots\dots$$

$$-6 - 2 = \dots\dots\dots$$

$$+5 - 10 = \dots\dots\dots$$

$$+1 - 1 = \dots\dots\dots$$

$$-3 + 4 = \dots\dots\dots$$

$$+10 - 1 = \dots\dots\dots$$

$$-5 - 3 = \dots\dots\dots$$

$$0 - 3 = \dots\dots\dots$$