

## LEMBAR KERJA PESERTA DIDIK 3

### MATEMATIKA

Satuan Pendidikan : SD Negeri Mertoyudan 3  
Kelas / Semester : II (Dua) / 2  
Tema 7 : Kebersamaan  
Sub Tema 1 : Kebersamaan di Rumah  
Muatan Terpadu : PPKn, Bahasa Indonesia, dan Matematika  
Hari/tanggal : .....  
Pengerjaan LKPD : 10 menit



#### Indikator :

3.7.1 Menentukan nilai pecahan  $\frac{1}{2}$ ,  $\frac{1}{3}$  dan  $\frac{1}{4}$  dengan benda konkret (C3)

3.7.2 Menemukan nilai pecahan  $\frac{1}{2}$ ,  $\frac{1}{3}$  dan  $\frac{1}{4}$  dengan benda konkret (HOTS-C4)

#### Bacalah petunjuk dibawah ini!

1. Isilah identitas namamu dan kelasmu pada tempat yang sudah di sediakan!
2. Perhatikan pengarahannya dari guru tentang pengerjaan LKPD!
3. Jawablah soal pertanyaan tentang materi pecahan dengan menentukan nilai pecahan berdasarkan soal!
4. Temukan nilai pecahan pada gambar dengan menarik garis pada nilai pecahan yang sesuai!

5. Kerjakan dengan teliti dan sungguh-sungguh!

Tentukan nilai pecahan berdasarkan gambar!

1. Beni memiliki satu kue donat, kemudian dibagi menjadi 2 bagian diberikan kepada Edo. Satu kue donat dipotong menjadi 2 bagian yang sama besar, sehingga setiap bagian menjadi  bagian



2. Ibu memiliki satu pizza berbentuk lingkaran. Ibu memotong pizza menjadi 4 bagian yang sama besar dan akan dibagikan kepada Ayah, Siti, Beni, dan Edo. Berapa bagian yang di dapatkan Ayah, Siti, Beni dan Edo? Setiap potongan menjadi  bagian



3. Siti memiliki kertas berbentuk persegi panjang. Kemudian kertas tersebut ia potong menjadi tiga bagian sama besar. Setiap potong kertas menjadi  bagian.





Pilihlah jawaban nilai pecahan!

$$\frac{1}{2}$$

$$\frac{1}{3}$$

$$\frac{1}{4}$$


Temukan nilai pecahan pada gambar dengan menarik garis pada nilai pecahan yang sesuai!




$$\frac{1}{2}$$



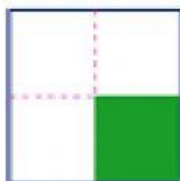
$$\frac{1}{4}$$



$$\frac{1}{3}$$



$$\frac{1}{4}$$



$$\frac{1}{2}$$