

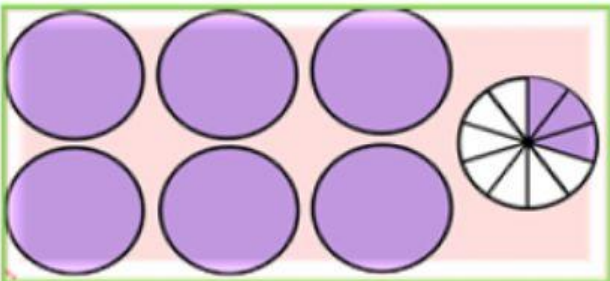


การอ่าน การเขียนทศนิยม 1 ตำแหน่ง

ให้นักเรียนเติมตัวเลขและคำอ่าน ลงในช่องว่าง

1  เขียนเป็นทศนิยม

 เขียนเป็นตัวเลข

2  เขียนเป็นทศนิยม

เขียนเป็นตัวเลข

ให้นักเรียนเติมตัวเลขทศนิยม ลงในช่องว่าง

3 $\frac{7}{10}$ เขียนเป็นทศนิยม

4 $\frac{31}{10}$ เขียนเป็นทศนิยม

5 $\frac{16}{10}$ เขียนเป็นทศนิยม

6 $\frac{25}{10}$ เขียนเป็นทศนิยม

7 $\frac{208}{10}$ เขียนเป็นทศนิยม