










TAJUK 10 : NISBAH DAN KADARAN

10.1 Nisbah dan Kadaran (Mewakilkkan nisbah dua kuantiti)

1. Rajah di bawah menunjukkan koleksi tiga jenis bentuk dua dimensi.



a) Nyatakan nisbah  kepada   : 

b) Nyatakan nisbah  berbanding   : 

c) Nyatakan nisbah  kepada   : 

2. Aisyah ada 12 keping setem. Suziana ada 3 keping setem lebih daripada Aisyah.

a) Nyatakan nisbah bilangan setem Aisyah kepada bilangan setem Suziana.

 : 

b) Nyatakan nisbah bilangan setem Aisyah kepada jumlah setem mereka.

 : 

3. Di dalam sebuah bakul terdapat 24 biji limau. 15 biji daripadanya adalah limau madu dan selebihnya adalah limau Manderin.

a) Nyatakan nisbah bilangan limau madu kepada limau mandarin.

 : 

b) Nyatakan nisbah bilangan limau manderin kepada jumlah semua limau.

 : 