


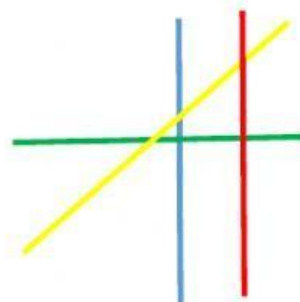
Ficha de repaso: líneas, rectas y ángulos.

¿Qué tipo de líneas son? Elige la opción correcta:



Observa las líneas y contesta:

- a) Las rectas roja y amarilla son:
- b) Las rectas azul y roja son:
- c) Las rectas verde y azul:
- d) Las rectas amarilla y verde:



Contesta a las preguntas sobre los ángulos:

¿Cómo se llaman las partes de recta que limitan el ángulo?

El punto donde se cortan las rectas se llama

La abertura entre los lados del ángulo es la

Di cómo es cada ángulo según su amplitud: (escribe solamente la palabra en singular)



¿Cómo se llaman los ángulos?


Si miden menos de 90° :

Si miden 90° :

Si miden más de 90° :

Clasifica los siguientes ángulos según su amplitud:

(colócalos en la tabla)



AGUDOS	RECTOS	OBTUSOS