

Chọn câu trả lời đúng

Bài 1: Trong các số **5, 8, 6** số bé nhất là:

6

5

8

Bài 2: **8** gồm **5** và

2

3

4

Bài 3: Số cần điền vào phép tính **$7 + 0 = 0 + \dots$** là:

5

6

7

Bài 4: Điền dấu vào chỗ chấm của: **8** **4** là:

>

<

=

Bài 5: Số vừa lớn hơn 5 vừa bé hơn 8 là:

7


8

9

Bài 6: Hình thích hợp đặt vào ? là:



Bài 7: Số?



Bài 8: Tính

a) $10 + 0 - 5 = \dots$ $7 - 5 = \dots\dots$

b) $8 + 2 = \dots\dots$ $8 - 4 + 3 = \dots$

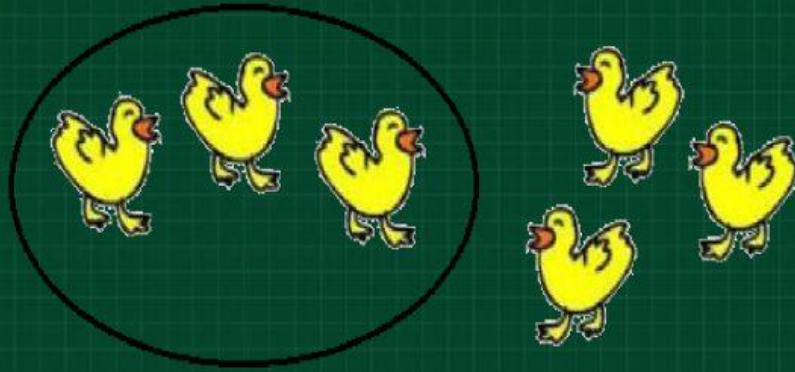
Bài 9: Viết số thích hợp vào ô trống

Trong hình bên có:

- Khối lập phương
- Khối hộp chữ nhật

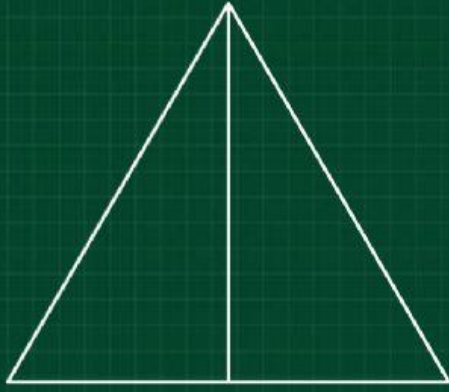


Bài 10: Viết phép tính thích hợp

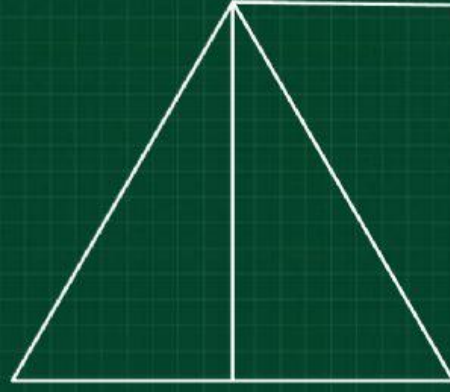


--	--	--	--	--

Bài 11: Điền số thích hợp



Có.... hình tam giác



Có.... hình chữ nhật

Có.... hình tam giác