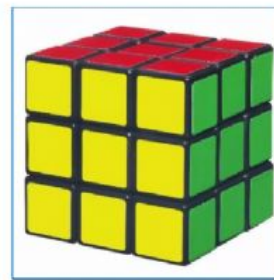


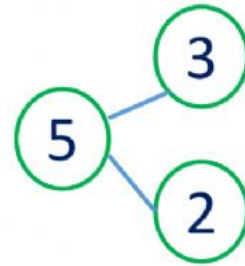
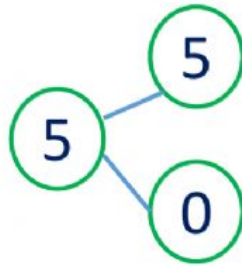
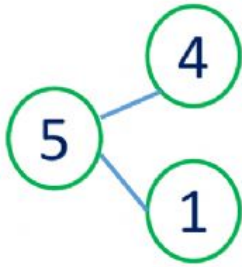


Bài 1: Chọn các món đồ vật có dạng hình chữ nhật.





Bài 2: Chọn sơ đồ tách gộp phù hợp với tranh.



LIVEWORKSHEETS



Bài 3: Tính

$$2 + 8 = \square$$

$$9 - 6 - 3 = \square$$

$$10 - 6 = \square$$

$$10 - 2 + 1 = \square$$

LIVEWORKSHEETS



Bài 4: Nói

$$10 - 8 + 5$$


$$1 + 1 + 8$$

$$9 + 1 - 9$$

10

1

7



LIVEWORKSHEETS




Bài 5: Đếm hình

Có hình tròn

Có hình tam giác

Có hình chữ nhật



LIVEWORKSHEETS