









ÔN TOÁN LỚP 1

PHIẾU 11

Bài 1 : Số ?



<input type="text"/>		<input type="text"/>	
<input type="text"/>		<input type="text"/>	
<input type="text"/>		<input type="text"/>	
<input type="text"/>		<input type="text"/>	

Bài 2 : So sánh

7	<input type="text"/>	8
9	<input type="text"/>	4
8	<input type="text"/>	5
2	<input type="text"/>	8
4	<input type="text"/>	7
6	<input type="text"/>	3
1	<input type="text"/>	2



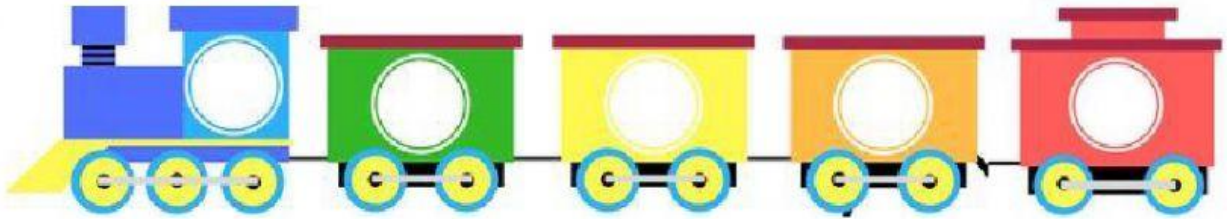
www.nhantriviet.com

5	<input type="text"/>	7
7	<input type="text"/>	9
4	<input type="text"/>	8
9	<input type="text"/>	2

Bài 3 : Sắp xếp các số sau :



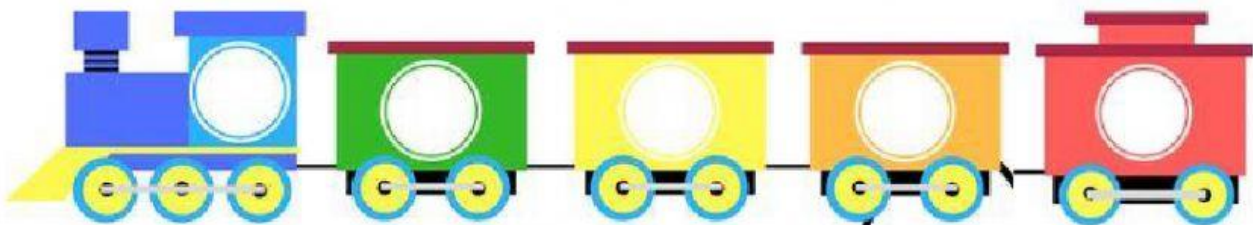
- Theo thứ tự từ lớn đến bé :



Bài 4 : Sắp xếp các số sau :



- Theo thứ tự từ bé đến lớn :



Bài 5 : Hình bên có :

