

2 Manakah gambar yang tepat untuk menyatakan setengah bagian?

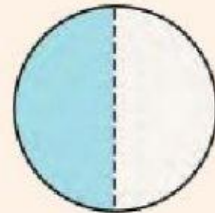
A



B



C




D



E




F



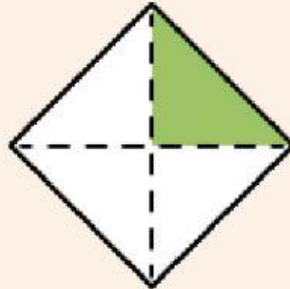
G



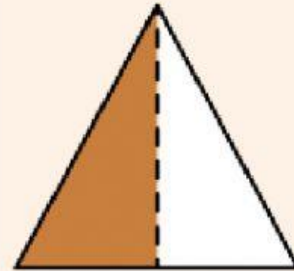
G



H



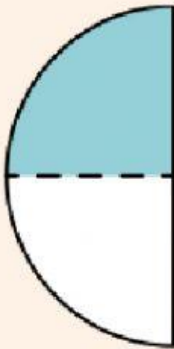
I



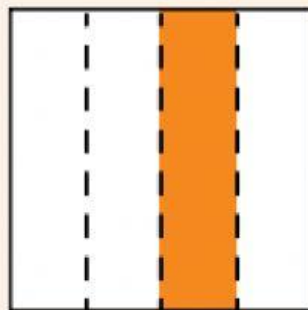
2

Manakah gambar yang tepat untuk menyatakan setengah bagian?

A



B



C



LENGKAPILAH KATA RUMPANG DI BAWAH INI
DENGAN HURUF YANG BENAR!




1. __yung



2. __tol



3. __la



4. __bot



1. __lon



2. __ples



3. __ring



4. __las