



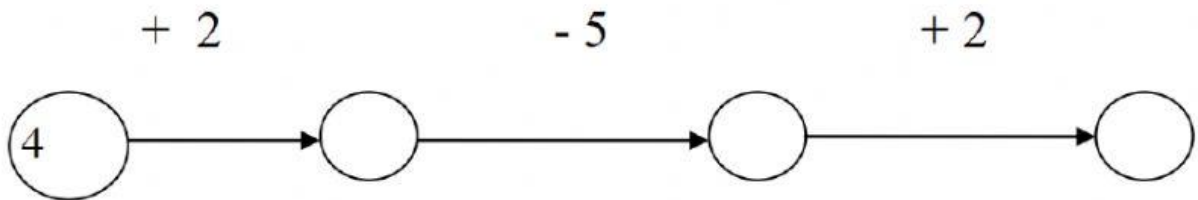
# ÔN TẬP TOÁN CUỐI KÌ 1

## Bài 1: Điền số thích hợp vào ô trống:

	a.
	b.

	c.
	d.

## Bài 2: Số:



## Bài 3: Tính nhẩm:

$10 - 6 = \dots\dots$

$5 - 4 = \dots\dots$

$4 + 2 + 2 = \dots\dots$

$6 + 0 = \dots\dots$

$10 - 10 = \dots\dots$

$1 + 9 - 6 = \dots\dots$

$3 - 2 = \dots\dots$

$7 + 2 = \dots\dots$

$0 + 8 - 5 = \dots\dots$

## Bài 4: Cho các số 3, 6, 8, 2, 5:

Sắp xếp theo thứ tự từ **bé** đến **lớn**:.....

Sắp xếp theo thứ tự từ **lớn** đến **bé**:.....

Trong các số đó, số bé nhất là....., số lớn nhất là .....



**Bài 5: Điền dấu >, <, =:**

$5 - 3 \dots\dots 5 + 3$

$7 - 1 \dots\dots 3 + 3$

$8 - 4 \dots\dots 2 + 2 + 2$

.....

.....

.....

.....

.....

.....

$9 - 6 \dots\dots 9 - 7$

$10 - 8 \dots\dots 2 + 6$

$1 - 0 + 5 \dots\dots 10 - 4$

.....

.....

.....

.....

.....

.....



**Bài 6: Viết số còn thiếu vào ô trống:**

a.



b.



**Bài 7: Viết phép tính thích hợp với hình vẽ:**



--	--	--	--	--