

## BÀI TẬP TOÁN ÔN CUỐI HỌC KÌ 1

### KIẾN THỨC CẦN ÔN

- Đổi đơn vị đo độ dài
- Độ dài đường gấp khúc
- Đếm hình

PHIẾU 4

#### A. Đổi đơn vị đo độ dài (Điền số thích hợp vào ô trống)

$3\text{m } 6\text{cm} = \dots\dots\dots \text{cm}$

$8\text{m } 4\text{cm} = \dots\dots\dots \text{cm}$

$5\text{km } 25\text{dam} = \dots\dots\dots \text{dam}$

$5\text{hm } 2\text{dam} = \dots\dots\dots \text{dam}$

$7\text{m } 5\text{dm} = \dots\dots\dots \text{dm}$

$3\text{m } 7\text{dm} = \dots\dots\dots \text{dm}$

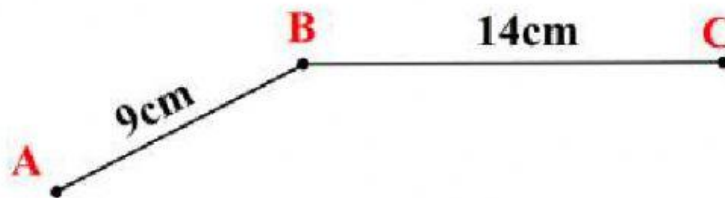
$3\text{m } 23\text{cm} = \dots\dots\dots \text{cm}$

$6\text{m } 15\text{cm} = \dots\dots\dots \text{cm}$

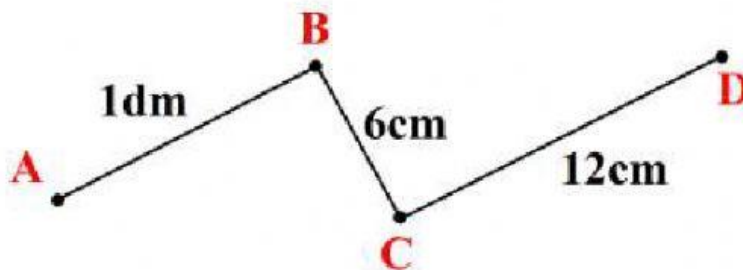
$4\text{hm } 7\text{m} = \dots\dots\dots \text{m}$

$5\text{hm } 29\text{m} = \dots\dots\dots \text{m}$

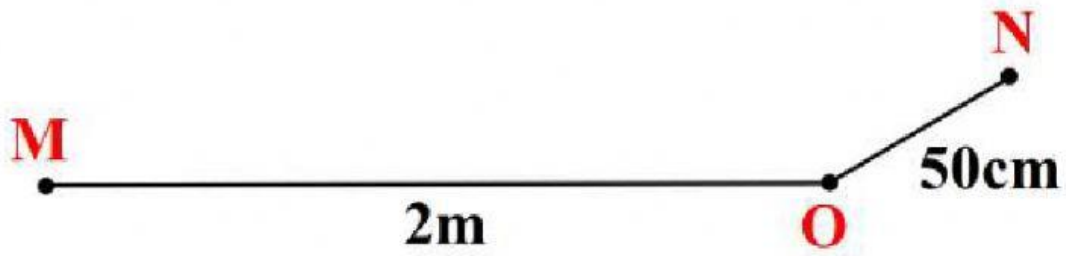
#### B. Độ dài đường gấp khúc (Điền số thích hợp vào ô trống)



Độ dài đường gấp khúc ABC là ..... cm



Độ dài đường gấp khúc ABCD là ..... cm




Độ dài đường gấp khúc MON là ..... cm

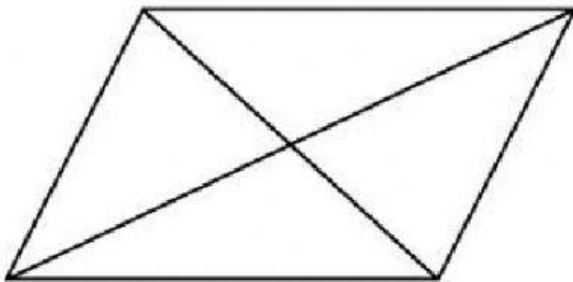
**C. Đếm hình** (Điền số thích hợp vào ô trống)



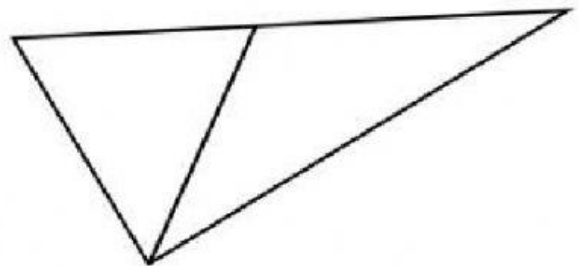
Hình trên có ..... hình chữ nhật.



Hình trên có ..... hình chữ nhật.



Hình trên có ..... hình tam giác.



Hình trên có ..... hình tam giác.