



luyện tập

# 1. Số ?



hai

10 mười

sáu

4 bốn

8 tám

một



ba

năm

0 không




chín

bảy



# 2. Số?


		



## 2. Số?

Đố các bạn, trong các con vật: **con thỏ**, **con chó**, **con trâu**, số con vật nào ít nhất?





luyện tập

### 3. >, <, =?

a)

$6 \square 8$

b)

$9 \square 9 - 1$

c)

$10 \square 8 + 2$

d)

$4 + 3 \square 7$

e)

$5 + 1 \square 8$

g)

$3 + 0 \square 2$