




Completa las series de forma ascendente y descendente

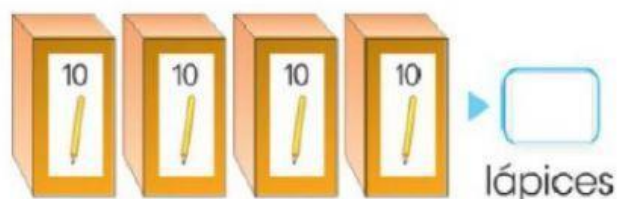
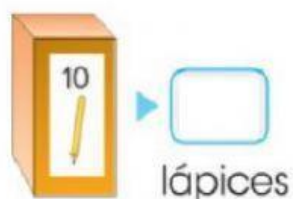
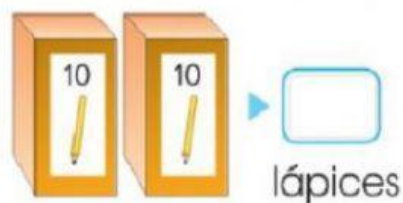
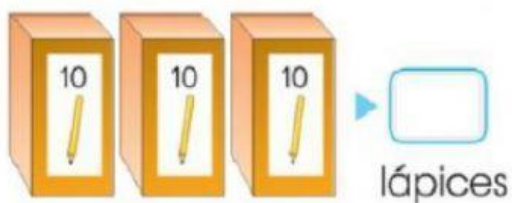
80 30 60 20 90 40 70



Observa y resuelve.

	2 decenas ▶ $2D = 20$ unidades
	3 decenas ▶ $3D = 30$ unidades
	4 decenas ▶ $4D = 40$ unidades

¿Cuántos  hay en total? Escribe.

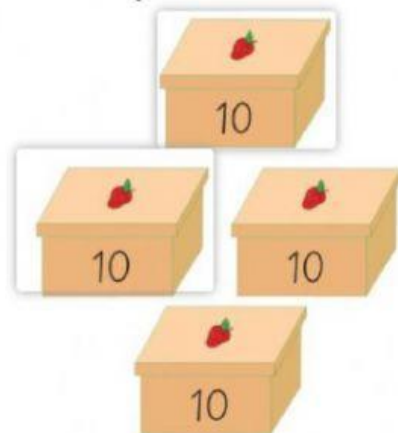
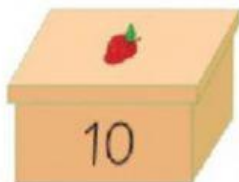


Escribe cuántas decenas tiene cada número.

20	▶	<input type="text"/> decenas		30	▶	<input type="text"/> decenas
40	▶	<input type="text"/> decenas		50	▶	<input type="text"/> decenas

Coloca la cantidad de cajas que necesitas para completar las decenas.

- Hay tres decenas de fresas.



- Hay cuatro decenas de naranjas.

