

Institución Educativa Particular  Calidad - Seriedad - Eficiencia	<b>EXAMEN BIMESTRAL – 1º GRADO</b>
	<b>CURSO:</b> Razonamiento Matemático.
	<b>FECHA:</b> 14 - 12 - 21

Nombres:
Apellidos:

**1. Observa las imágenes y escribe la ubicación de lo indicado.**



José   Franco   Roxana

- \*Franco está a la \_\_\_\_\_ de Roxana.
- \*José está a la \_\_\_\_\_ de Franco.
- \*Franco está \_\_\_\_\_ José y Roxana.

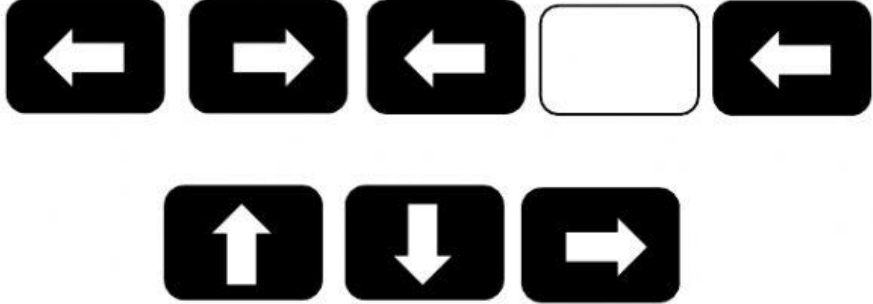


Carlos   Karina   César


- \* \_\_\_\_\_ está entre Carlos y César.
- \* César está a la \_\_\_\_\_ de Karina.
- \* Carlos está al lado \_\_\_\_\_ de Karina.

**2. Observa y PONER la figura que sigue.**

a)



b)

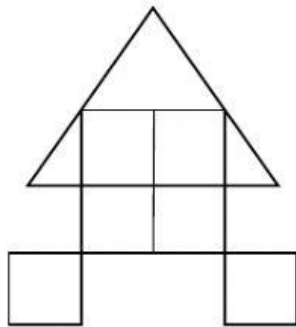


3.- Resuelve las operaciones, según el valor de cada letra.

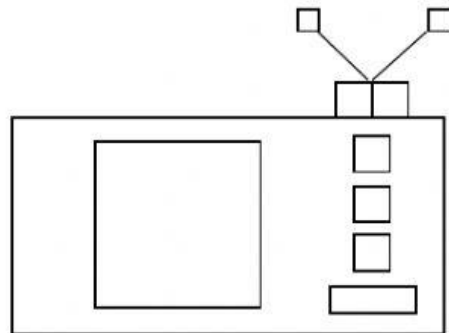
A = 89	C = 36	E = 12	H = 67
B = 17	D = 55	F = 100	M = 45

- a)  $A - C =$
- b)  $F + H =$
- c)  $M - E =$
- d)  $D + B =$
- e)  $F + F =$

4. ¿Cuántos cuadrados hay?



Rpta. \_\_\_\_\_



Rpta. \_\_\_\_\_

5. Escribe V ó F.

- a) 180 es menor que 181.
- b) 9 centenas equivale a 900 unidades.
- c) 490 es mayor que 491.
- d) 679 es menor que 680.
- e) 760 es menor que 670.

6. Resuelve las ecuaciones.

$$X + 65 = 99$$

$$X - 43 = 79$$

7. Resuelve.

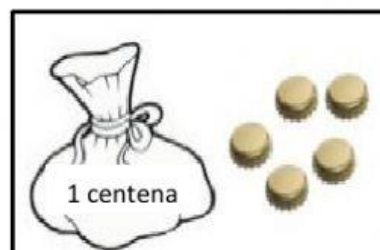
	4	2	
2			3
1			
	3	1	

4			
	2	3	
	1		
			2

8. Lee, piense y encierra la respuesta.


Manuel trajo sus chapitas en una bolsa y algunas quedaron sueltas.  
Observa la imagen.

¿Cuántas chapitas en total trajo Joaquín?



- a) 150
- b) 105
- c) 150

Antonio ha comprado 3 centenas, 9 decenas y 9 unidades de ladrillos.  
¿Cuántos ladrillos le falta para que tenga 4 centenas de ladrillos?



- a) 100
- b) 10
- c) 1