



INSTITUCIÓN EDUCATIVA PARTICULAR MARÍA DE LOS ÁNGELES
ÁREA: RAZONAMIENTO MATEMÁTICO
Práctica calificada III Trimestre



Apellidos y Nombres: _____

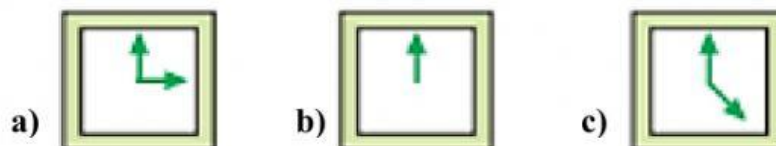
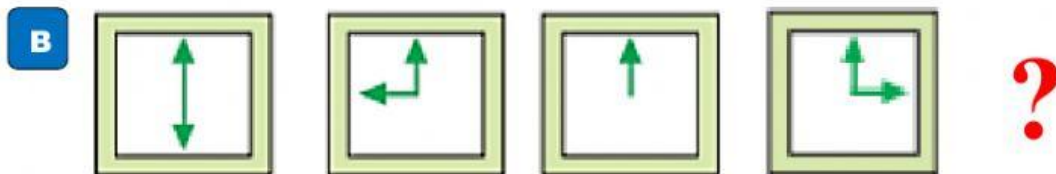
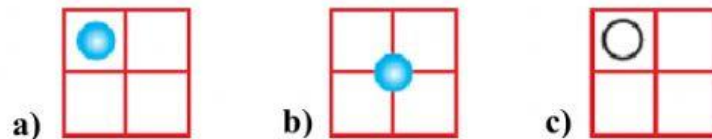
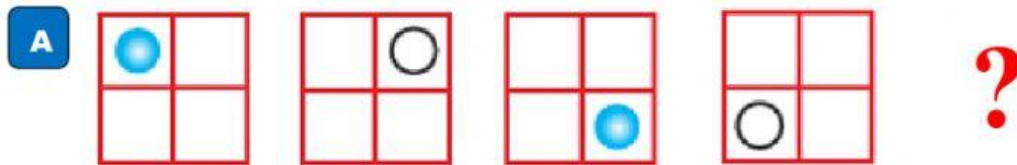
Grado: Tercero Nivel: Primaria

Fecha: Miercoles 15/12/21

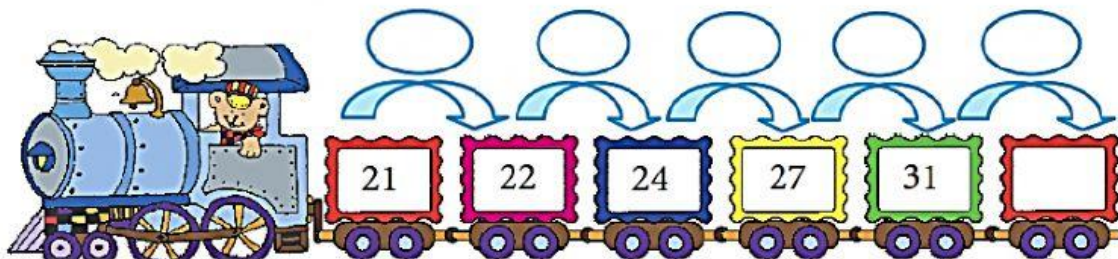
Nota

20

1. ¿Qué figura sigue? Selecciona la respuesta correcta.



2. ¿Qué número sigue? Completa los espacios en blanco.



3. Juan es más alto que Raúl y Pedro es más alto que Juan. ¿Quién es de menor estatura?


- a. Raúl b. Pedro c. Jaime d. Juan

4. Tres niños tienen como mascota a un perro, a un gato y a un loro y les han puesto como nombres: Lolita, Milkito y Kukín. Se sabe que Kukín no ladra y que Lolita maulla. ¿Cuál es el nombre del loro?

	Lolita	Milkito	Kukin
Perro			
Gato			
Loro			

Responde: ¿Cuál es el nombre del loro?

5. ¿Cuántos cubos hay en la siguiente imagen?



a. 18

b. 19

c. 20