

Nombre: _____

Ficha L-M


Información

Fecha: _____



RELACIONA CADA PIEZA CON SU MOVIMIENTO.
UNE CON FLECHAS

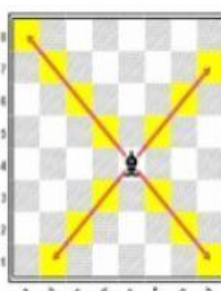
ENLACE
MOVIMIENTOS DE LAS PIEZAS




TODAS DIRECCIONES




ARRIBA-ABAJO
IZQUIERDA-DERECHA




DIAGONAL



EN L
Y SALTA



DE 1 EN 1
Y DOS CUANDO EMPIEZA



DE 1 EN 1 EN
TODAS DIRECCIONES